

**EXAMEN TRIMESTRAL DE COMPUTACIÓN T1**

**ESTUDIANTE:** \_\_\_\_\_

**DOCENTE:** Lic. Dioselina Vélez

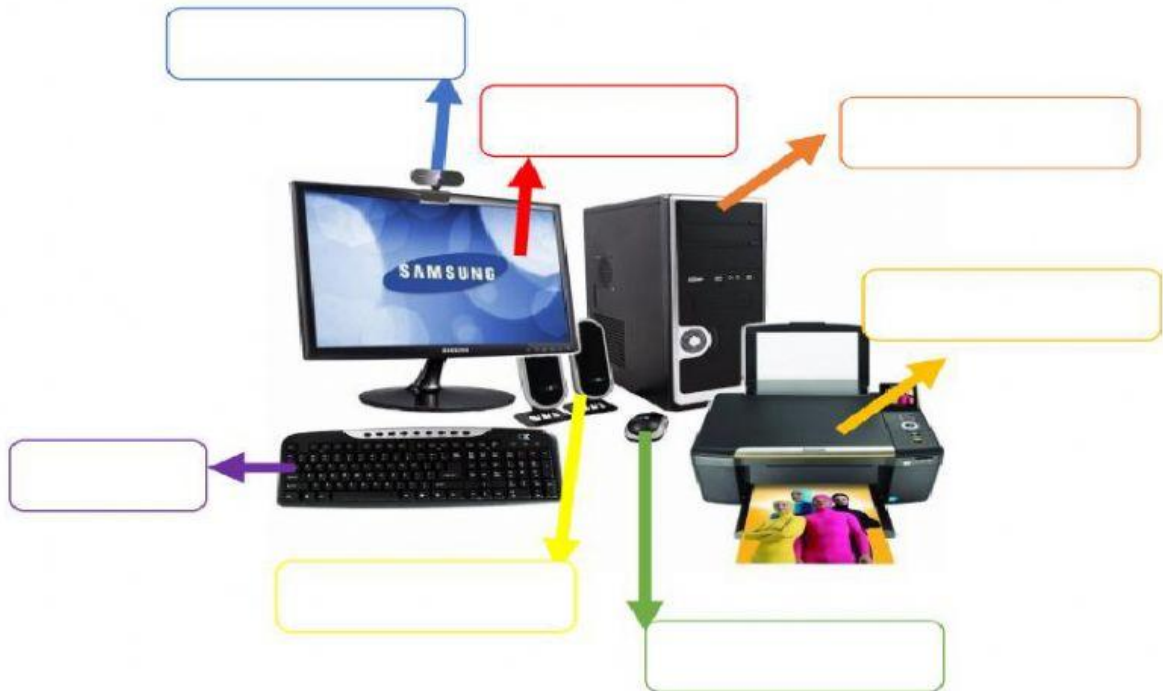
**FECHA:** \_\_\_\_\_

**CURSO:** CUARTO DE BÁSICA

**INSTRUCCIONES:** Estimado estudiante, la presente evaluación tiene como objetivo conocer el grado de aprendizaje que usted ha obtenido durante el parcial. Por tal razón sírvase desarrollarla en forma individual sin tachones ni enmendaduras, con esfero azul o negro y recuerde que cualquier copia o intento de copia afectará directamente su nota.

**1. Escriba las partes de la computadora.**

**1.20 pts.**



**2. Escriba los pasos para insertar una tabla en Word.**

**0.40 dcmas.**

\_\_\_\_\_

\_\_\_\_\_

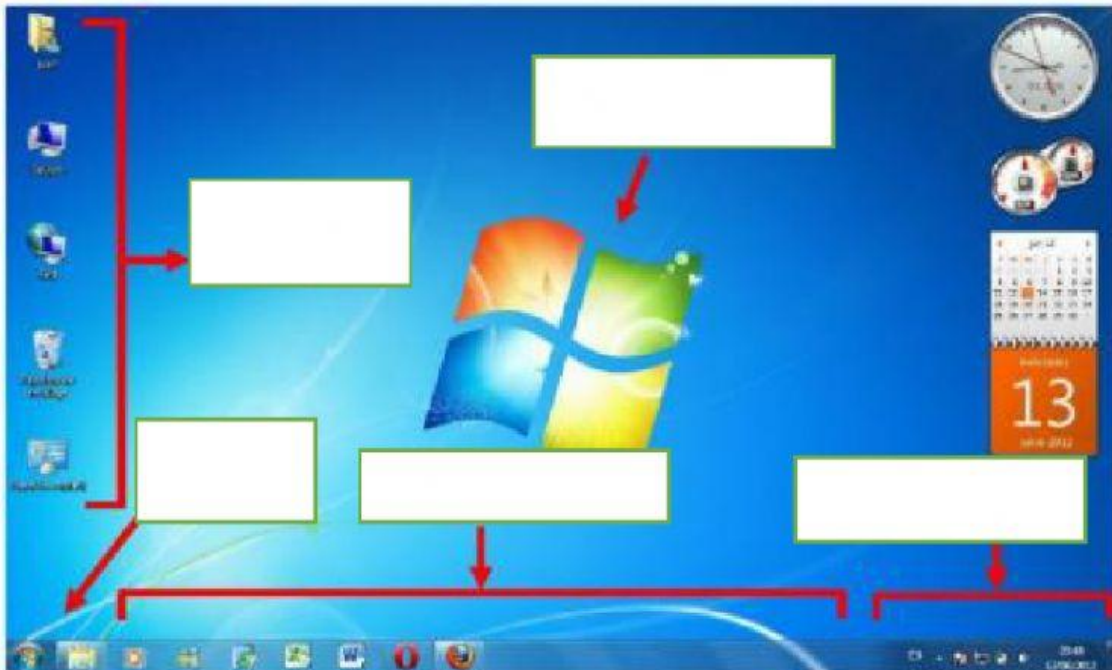
**3. Escriba el nombre de cada funcionamiento de la computadora.**

**0.70 dcmas.**

Enunciado	Parte
Conmigo puedes escribir	
Soy el cerebro de la computadora	
Yo muevo al puntero	
Escucha música conmigo	
Me necesitas si quieres un dibujo en papel	
También me llaman pantalla	
Me necesitas para una videollamada	

4. Coloque las partes del escritorio de Windows.

0.50 dcmas.



5. Indique como se llaman los siguientes elementos de Windows.

0.40 dcmas



6. Escoja la opción correcta.

0.60 dcmas.

. ¿Qué es Windows?

- Es un software
- Es un dispositivo de salida
- Lo que se puede tocar

¿Qué son los iconos?

- Son programas
- Es el hardware de la computadora
- Son imágenes pequeñas que están en el escritorio.

### ¿Qué es el papel tapiz?

- Es un botón de Inicio
- Es la imagen que se ve en el fondo de pantalla
- Es un programa.

7. Una con líneas según corresponda.

0.30dcmas.



REPRESENTADO POR EL ICONO DE WINDOWS


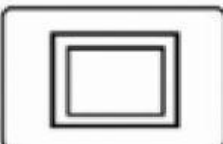
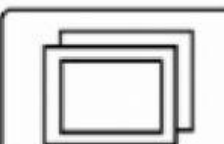

LÍNEA HORIZONTAL DONDE SE UBICAN LOS ACCESOS DIRECTOS DE LOS PROGRAMAS

NOTIFICA CIERTAS ACCIONES QUE SE ESTÁ REALIZANDO



8. Escoge el nombre que corresponda.

0.80 dcmas

9. Realice la siguiente tabla en Excel aplicando las fórmulas.

2pts.

- Coloca la opción correcta, haciendo la tabla en Excel y descubriendo la respuesta.

Número	Producto	Suma
1	Mesa	59
2	Cocina	4
5	Sofás	8
4	Linterna	35
6	Libro	2
<b>TOTAL</b>		

10. Realiza la siguiente tabla en Word.

2pt.s

Número	Producto
--------	----------

1	Mesa
2	Cocina
5	Sofás
4	Linterna
6	Libro

11. Escriba el nombre de las siguientes herramientas de Word.

1.10 pts

