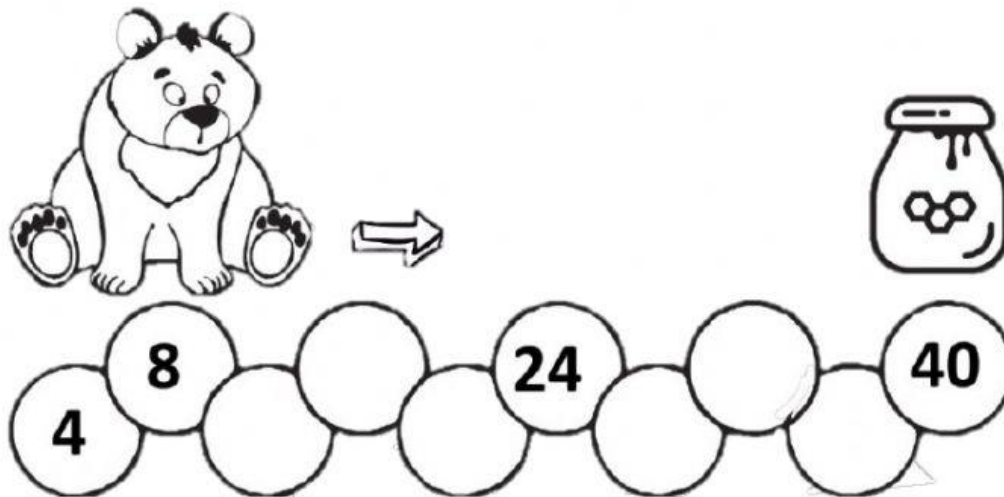


## FICHA DE TRABAJO MATEMÁTICA

Nombres y Apellidos:

1. Ayuda al oso a llegar a su comida completando la serie.




2. Resuelve las multiplicaciones, escribe en el recuadro las palabras que corresponden al resultado y hallaras una adivinanza.

5	8	10
15	8	24
32	40	20
40	16	50

3 x 5 VERDE  
 5 x 10 FRÍA  
 5 x 1 ROJA  
 5 x 8 DE  
 2 x 4 POR  
 4 x 5 DÍA  
 4 x 6 FUERA  
 4 x 8 SANTA  
 2 x 5 DENTRO  
 4 x 4 NOCHE

3. Elige el resultado correcto y márcalo.


$4 \times 2$ <div>6</div> <div>8</div> <div>10</div>	$7 \times 5$ <div>30</div> <div>35</div> <div>40</div>	$9 \times 10$ <div>45</div> <div>80</div> <div>90</div>	
$0 \times 2$ <div>2</div> <div>1</div> <div>0</div>	$9 \times 2$ <div>14</div> <div>16</div> <div>18</div>	$9 \times 5$ <div>45</div> <div>50</div> <div>55</div>	

4. Interpreta el problema y escribe la multiplicación.

Un cometa tiene 5 lazos ¿Cuántos lazos tienen 5 cometas?	<div>□</div> × <div>□</div> = <div>□</div>
Una flor tiene 10 pétalos ¿Cuántos pétalos tendrá en 4 flores?	<div>□</div> × <div>□</div> = <div>□</div>
En cada uno de los 8 maceteros puse 2 semillas ¿Cuántas semillas podrían germinar?	<div>□</div> × <div>□</div> = <div>□</div>




5. Une las gotas de agua con los pétalos de la flor que le corresponde.



6. Encuentra al intruso en cada caso y marca tu respuesta

Encuentra al intruso:

Uno de estos números **NO** corresponde a la tabla del 5. ¿Cuál?



fichasdematematicas.com

Numbers in circles: 10, 15, 42, 20, 40, 30, 50, 25, 5, 35, 60, 55, 45.

Encuentra al intruso:

Uno de estos números **NO** corresponde a la tabla del 7. ¿Cuál?

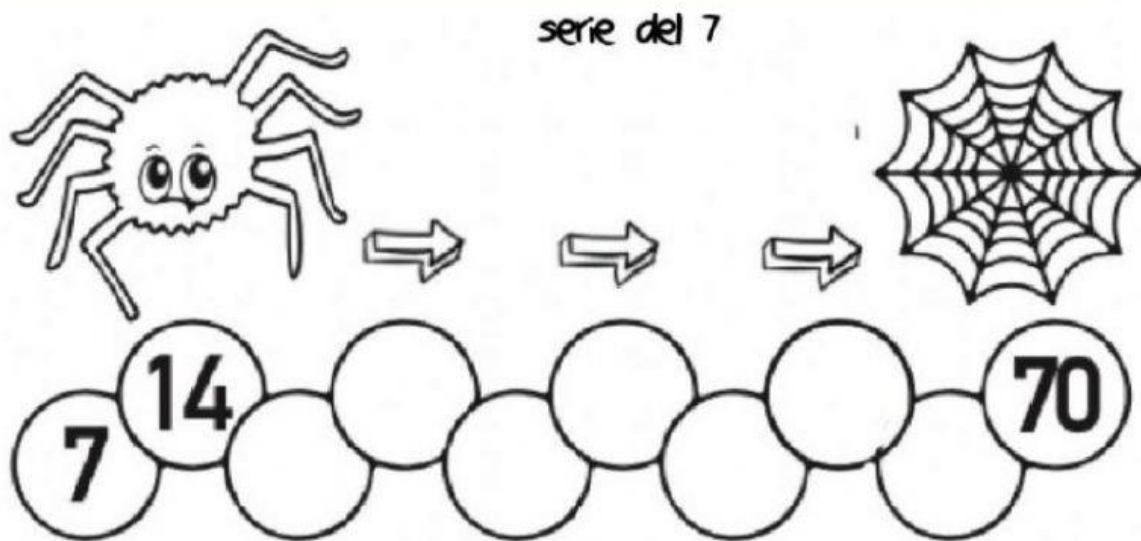


fichasdematematicas.com

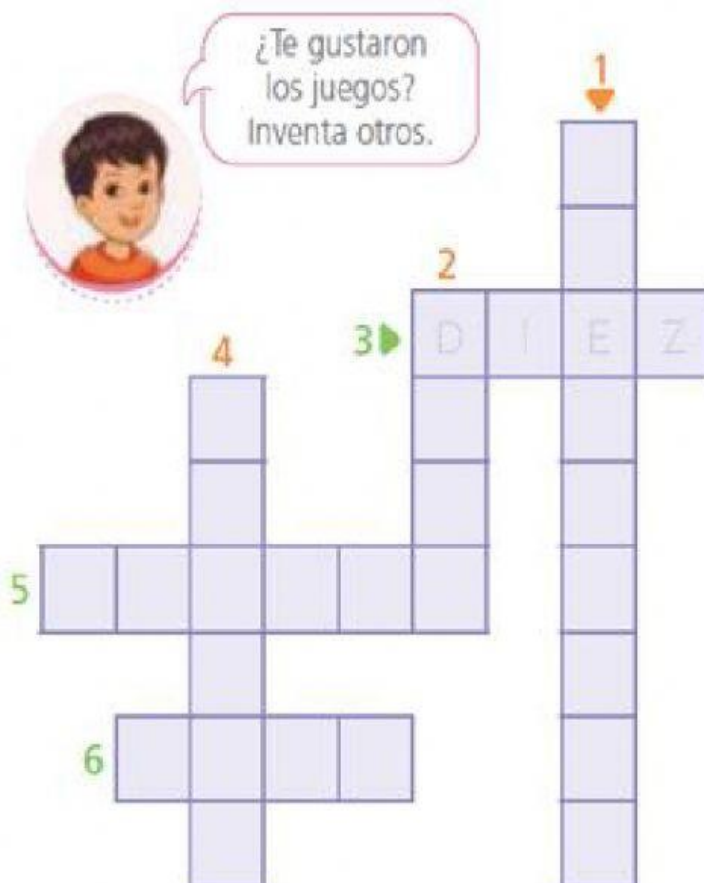
Numbers in circles: 21, 79, 42, 56, 7, 77, 63, 28, 14, 35, 54, 70, 84.



7. Ayuda a la araña a llegar a su tela de araña.



8. Completa el crucinúmero



Horizontales

3. ¿Cuántos plátanos hay en dos manos?
5. ¿Cuántos dedos hay en 4 manos?
6. ¿Cuántas medias hay en 4 pares?

Verticales

1. ¿Cuántas patas tienen 2 arañas?
2. ¿Cuántas llantas hay en 6 bicicletas?
4. ¿Cuántos plátanos hay en 3 manos?