


Gambar jarum jam dan menitnya dan jawab pertanyaannya.


33.



Jam berapakah 4 jam 30 menit kemudian?

:


34.



Jam berapakah 2 jam 5 menit kemudian?

:


35.



Jam berapakah 4 jam 15 menit kemudian?

:


36.



Jam berapakah 1 jam 20 menit kemudian?

:


37.



Jam berapakah 4 jam 5 menit kemudian?

:


38.



Jam berapakah 2 jam 20 menit kemudian?

:


39.



Jam berapakah 2 jam 40 menit kemudian?

:

40.



Jam berapakah 1 jam 35 menit kemudian?

: