



# COMPLEJO EDUCATIVO CATÓLICO FE Y ALEGRÍA "SAN JOSÉ".

Quinto grado "B".  
Estudios Sociales.

Docente: Aracely Alvarado.

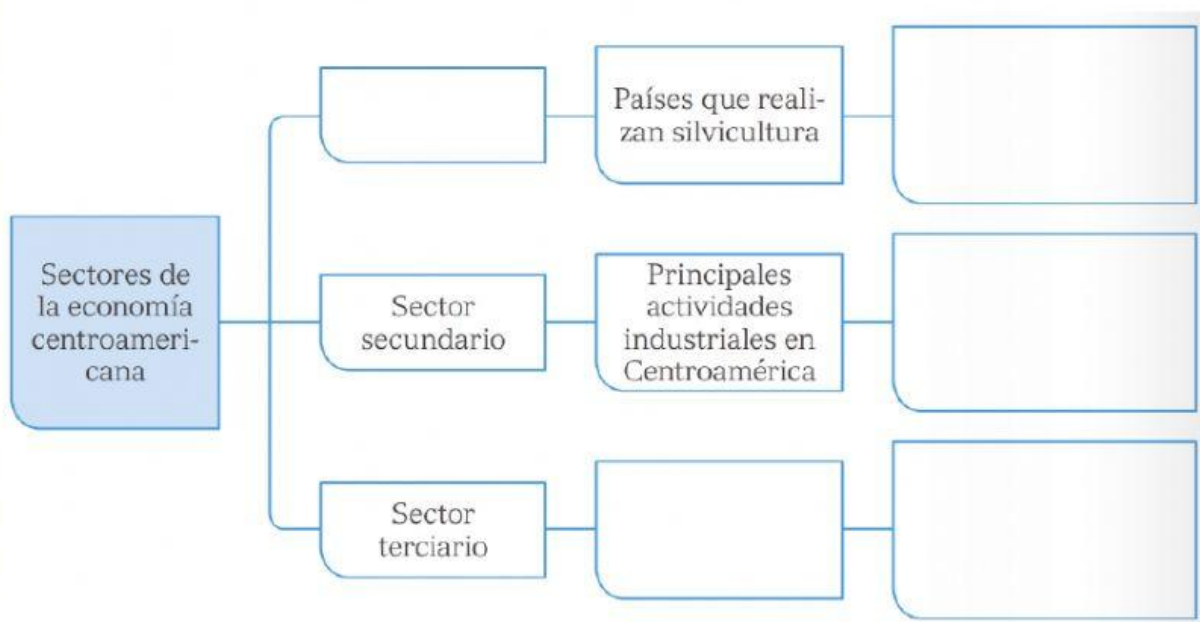
II Trimestre/Actividad evaluada III.

## Indicaciones generales:

- Lee con atención.
- Resuelve correctamente.
- Apoyate **Únicamente** con las anotaciones de tu cuaderno para realizar la actividad.

## Sectores económicos / Redes viales y medios de transporte.

### 1. Completa el siguiente esquema.



Salud,  
educación y  
comunicación

Sector  
primario

Textil,  
alimenticia y  
eléctrica

Brinda  
servicios  
como

Guatemala,  
Costa Rica y  
Honduras

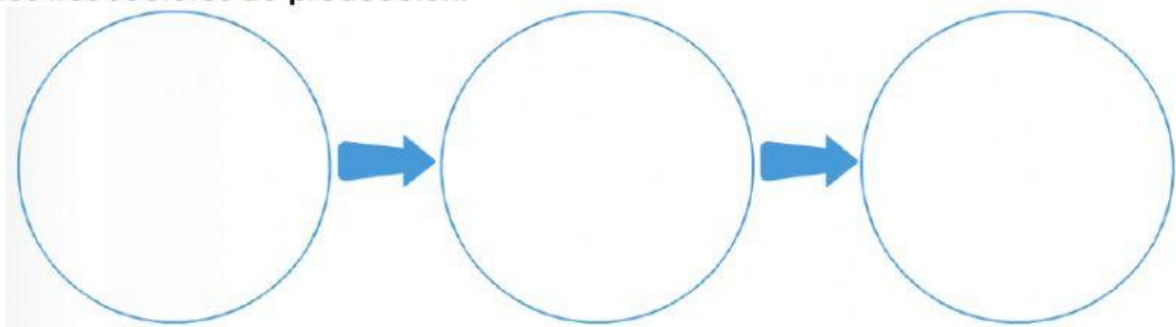
2. Identifica y escribe las principales actividades agrícolas que posee cada país de Centroamérica.

Guatemala  El Salvador  Honduras

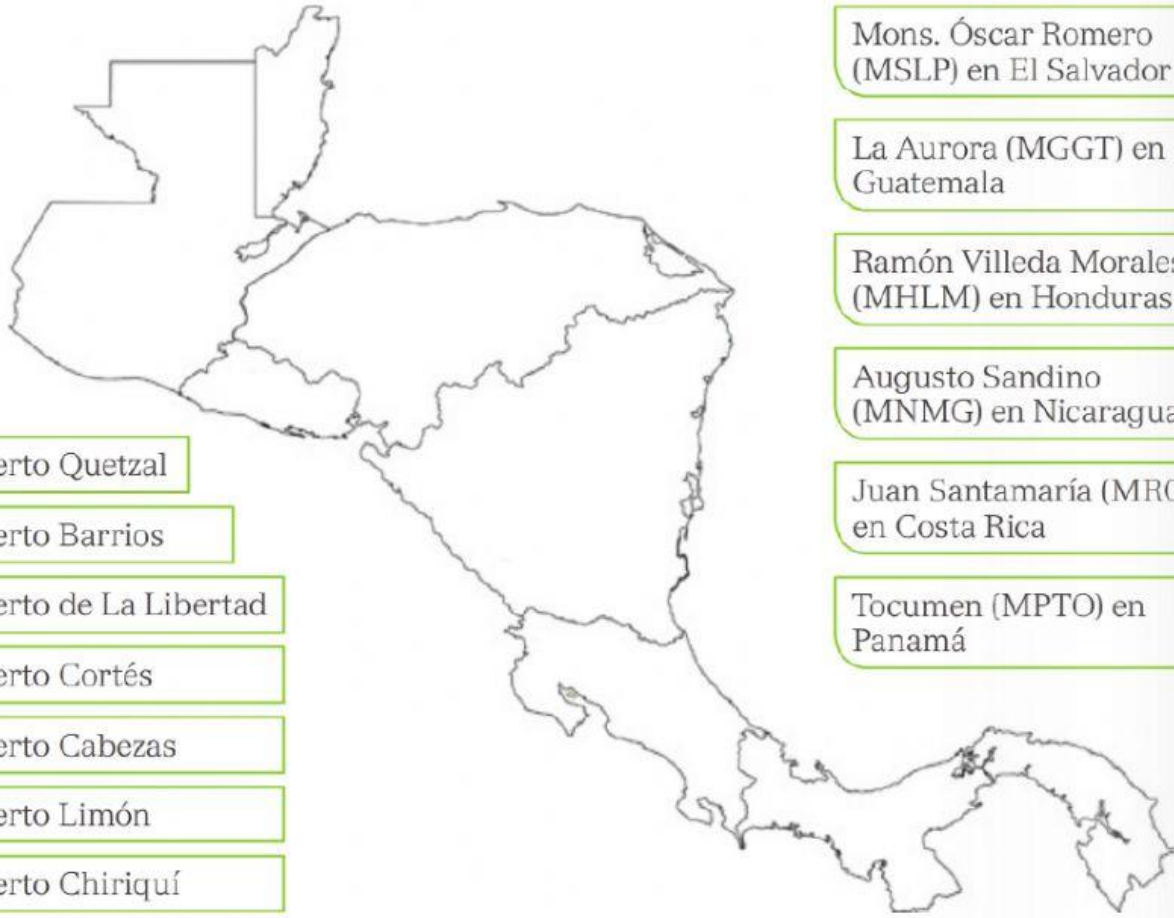
Panamá  Costa Rica  Nicaragua

Banano y café    cacao    banano    café, arroz y banano    banano    café y azúcar

3. Selecciona correctamente cómo las pupusas que venden en El Salvador pasan por los tres sectores de producción.



4. Une con líneas donde se ubica cada puerto marítimo en C. A. y los principales aeropuertos.



Puerto Quetzal

Puerto Barrios

Puerto de La Libertad

Puerto Cortés

Puerto Cabezas

Puerto Limón

Puerto Chiriquí

Mons. Óscar Romero  
(MSLP) en El Salvador

La Aurora (MGGT) en  
Guatemala

Ramón Villeda Morales  
(MHLM) en Honduras

Augusto Sandino  
(MNMG) en Nicaragua

Juan Santamaría (MROC)  
en Costa Rica

Tocumen (MPTO) en  
Panamá