



PEMERINTAH KABUPATEN LUWU TIMUR
DINAS PENDIDIKAN
SDN 264 WAWONDULA

Jl. Gunung Agung No. 01 Wawondula, Kec. Towuti

Penilaian Harian

Nama Peserta Didik :

Tema/Sub Tema : 6/ 3

No. Absen :

Kelas/Semester : 1 / 2

Tahun Pelajaran : 2020/2021

Jawablah pertanyaan di bawah ini dengan tepat!

A.3,1/5

1. Bunyi sila ke -3 Pancasila adalah _____

A.3,1/5

2. Simbol sila ke-3 Pancasila adalah _____

B.3,8/10

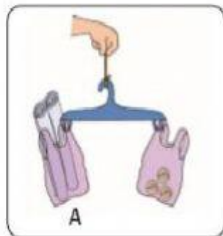
3. Tulislah 2 kalimat perintah

a. _____

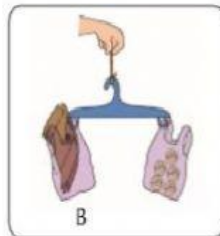
b. _____

C.3,8/8

4. Berilah tanda (✓) pada benda yang lebih berat dan isilah berat masing-masing benda.



Berat A = ... kelereng

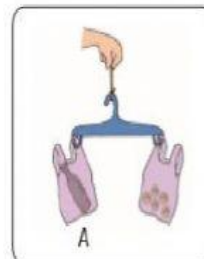


Berat B = ... kelereng

Mana yang lebih berat?

A

B



Berat A = ... kelereng



Berat B = ... kelereng


Mana yang lebih berat?

A

B

5.

F.3,1/4



gambar yang terbuat dari tanah liat di samping adalah jenis

gambar _____ dimensi

A'.3,5/8



Edo sedang melakukan gerakan squat jump. Rangkaian

Gerakan squat jump yang sedang dilakukan Edo adalah

gerakan _____