

Nama :

Kelas :

Denah dan Skala

Kerjakanlah soal berikut dengan benar !

1. Perhatikan gambar berikut!



Letak Universitas Budi Luhur berada di
Toko Buku Gramedia

2. Kota A dan kota B berjarak 80 km, sedangkan jarak pada peta 20 cm.
Hitunglah skala peta kota tersebut!

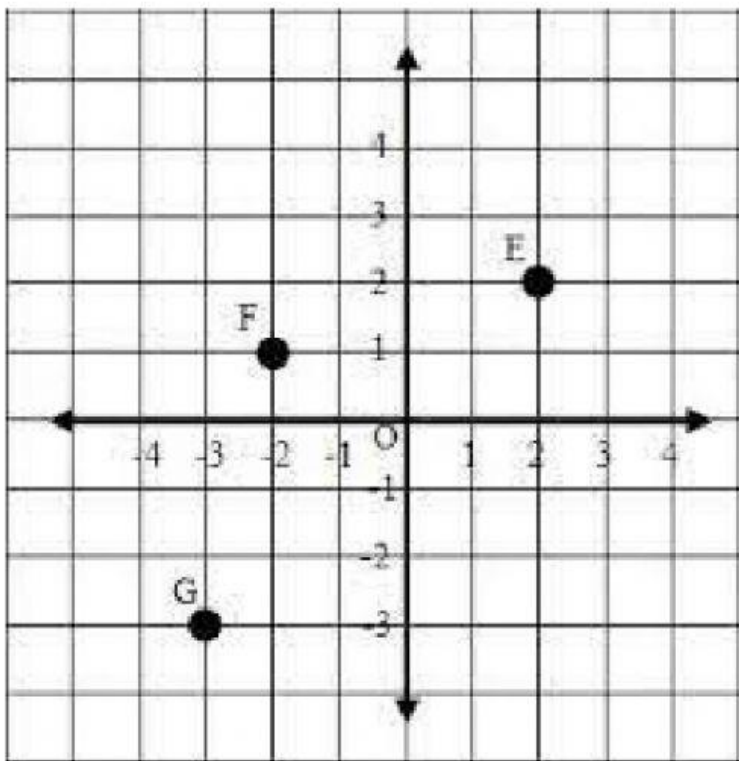
1 : 200.000

1 : 300.000

1 : 400.000

3. Jarak Kabupaten Pesawaran dan kota Bandar Lampung dalam peta 2 cm. Skala pada peta 1 : 1.000.000. Tentukan jarak kedua kota pada peta!

4. Perhatikan gambar berikut!



Pasangkanlah sesuai dengan titik koordinatnya!

Titik E

-2, 1






Titik F

-3, -3

Titik G

2, 2

5. Perhatikan gambar berikut!

5					
4	 CAFE		 SEKOLAH		
3	 MASJID		 PASAR		
2					
1		 RUMAH			
	A	B	C	D	E

Pindai gambar berikut ke kotak yang tepat !



D,4

C,3

C,1

B,4

A,3