

Tarea fracciones 30/6

1. De un paquete de galletitas quedaron 8, que representan $\frac{1}{2}$ del total. ¿Cuántas galletitas tenía el paquete entero?



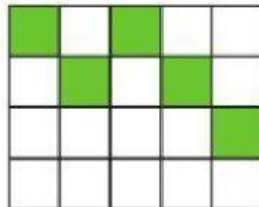
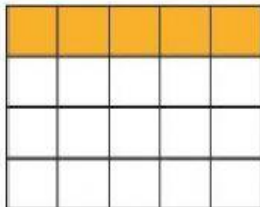


2. **EN PAREJAS** Paula comió $\frac{1}{3}$ de la caja de alfajorcitos que llevó a la escuela. ¿Cuántos comió?

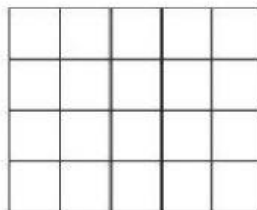


3. EN PAREJAS

- a) ¿Será cierto que en cada uno de estos dibujos está pintado $\frac{1}{4}$ del rectángulo?



- b) ¿Cuántos cuadraditos deberían pintar para cubrir $\frac{3}{4}$ del rectángulo?



5. EN GRUPOS Marquen la opción correcta en cada caso.

a) $\frac{1}{2}$ de 20 es...

5

10

20

b) $\frac{1}{4}$ de 20 es...

2

4

5

c) $\frac{1}{4}$ de 80 es...

10

20

40

d) $\frac{3}{4}$ de 80 es...

30

40

60

6. EN GRUPOS Calculen mentalmente.

a) $\frac{1}{2}$ de 160 =

e) $\frac{3}{4}$ de 100 =

e) $\frac{2}{3}$ de 60 =

b) $\frac{1}{4}$ de 100 =

d) $\frac{1}{3}$ de 60 =

f) $\frac{2}{3}$ de 180 =