



Latihan Soal

I. Berilah tanda silang (x) Pada Salah Satu Jawaban Yang Paling Benar!

1. Program aplikasi yang digunakan untuk menggambar adalah ...
a. Ms. Word
b. Ms. Excel
c. Ms. Paint
2. Untuk membuka Ms. Paint, pertama kali yang kita lakukan adalah dengan klik ...
a. Paint
b. accessories
c. start
3. Di bawah ini adalah langkah-langkah untuk membuka Paint adalah ...
a. klik Programs --> Start --> Accessories --> Paint
b. klik Start --> Programs --> Accessories --> Paint
c. klik Start --> Programs --> Accessories --> Ms. Word
4. Gambar yang menunjukkan alat-alat untuk menggambar disebut ...
a. ikon
b. menu
c. home
5. Ikon-ikon yang kita gunakan untuk menggambar dapat kita temukan di ...
a. clipboard
b. shapes
c. tool box
6.  Ikon di samping digunakan untuk ...
a. menghapus
b. menulis huruf
c. menggambar
7. Untuk menghapus gambar, kita bisa menggunakan ikon ...
a. rectangle
b. eraser
c. pencil

8.  Ikon di samping digunakan untuk membuat ...

- a. garis lurus
- b. garis lengkung
- c. lingkaran

9. Untuk menuliskan kalimat pada gambar, kita gunakan ikon ...

- a. Line
- b. Pencil
- c. Text

10. **Rectangle** digunakan untuk membuat bentuk ...

- a. segi tiga
- b. lingkaran
- c. persegi

11. Untuk membuat bangun segi banyak dapat kita gunakan ikon ...


- a. ellipse
- b. polygon
- c. curve

12. **Brush** digunakan untuk ...

- a. mewarnai
- b. menulis
- c. menggambar

13. Ikon yang digunakan untuk membuat lingkaran adalah ...


- a. curve
- b. Text
- c. ellipse

14.  Nama ikon di samping adalah ...

- a. li ne
- b. pencil
- c. rectangle

15. Untuk memilih dan memotong bagian gambar dengan area segi empat ikon yang digunakan adalah...



- a. free form select
- b. select
- c. eraser

16.  Nama ikon pada gambar di samping adalah ...

- a. pencil
- b. polygon
- c. eraser

17. Cara menyalakan komputer dengan benar adalah ...
a. menekan tombol power pada CPU
b. menekan tombol restart pada CPU
c. menekan tombol enter pada keyboard
18. Paint biasanya digunakan untuk ...
a. mengetik teks
b. menggambar
c. mencetak gambar
19. Untuk menggambar bentuk bangun datar pilih ikon pada grup ...
a. image
b. colors
c. shape
20. Di bawah ini yang tidak terdapat pada ribbon view adalah ...
a. paste
b. zoom
c. rulers

II. Isilah titik-titik di bawah ini dengan jawaban yang benar

1.  Ikon di samping digunakan untuk ...
2. Jika kita ingin membuat gambar segi tiga maka ikon yang digunakan adalah ...
3. Tool box, adalah kotak yang berisi alat untuk ...
4. Kotak yang berisi warna untuk mewarnai gambar disebut ...
5.  Ikon di samping dinamakan ...

6. Paint adalah program yang bisa digunakan untuk ...

7.  Ikon di samping dinamakan ...

8. Untuk membuka Paint bisa kita lakukan dengan cara klik ...

9. Shapes adalah kumpulan yang bisa digunakan untuk menggambar ...

10. Ikon yang digunakan untuk mewarnai dinamakan ...