

¿Qué vamos a aprender?

Identificar algunos países donde se encuentran patrimonios mundiales de la humanidad.

Para empezar...

Ve con mucha atención el siguiente video

Ve con mucha atención el siguiente video y admira los lugares que se muestran.
Rescata los nombres de los países que se mencionan ya que los vas a identificar en los mapas siguientes.

Algunos lugares patrimonio de la humanidad en Asia

¡Haz clic aquí!

Para realizar las siguientes actividades ten a la mano tu Atlas de Geografía del Mundo Sexto Grado. Busca en el índice: División Política (nombre del continente requerido)

Europa



1.- Francia
2.- Grecia

3.- Austria
4.- Eslovenia

5.- Croacia
6.- España

7.- Suiza
8.- Italia

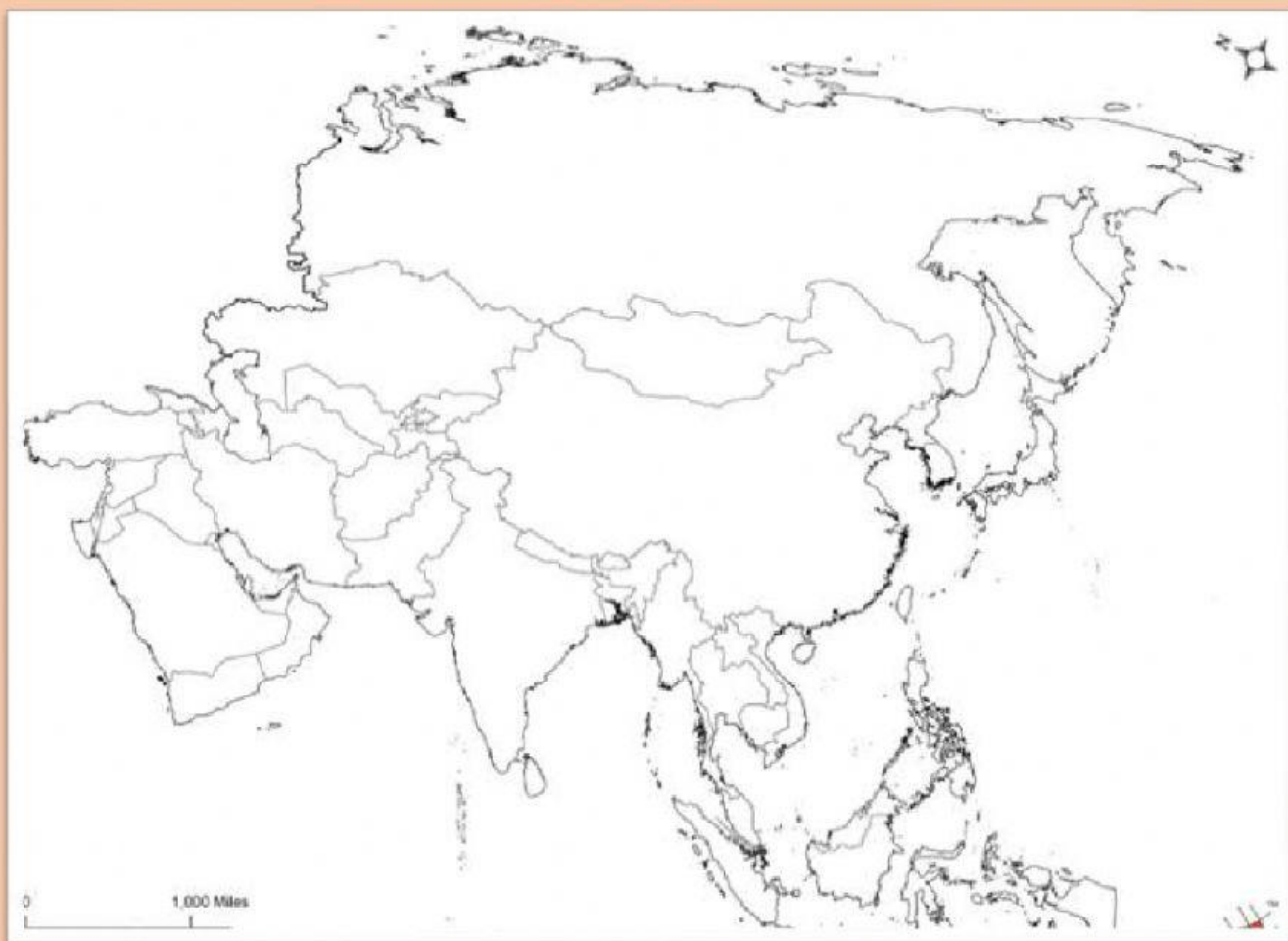
9.- Noruega



África



- | | | | | |
|---------------|----------------|------------|---------------|---------------|
| 1.- Namibia | 3.- Kenia | 5.- Zambia | 7.- Marruecos | 9.- Egipto |
| 2.- Sudáfrica | 4.- Madagascar | 6.- Uganda | 8.- Etiopía | 10.- Tanzania |




Asia

1.- Filipinas
2.- Japón

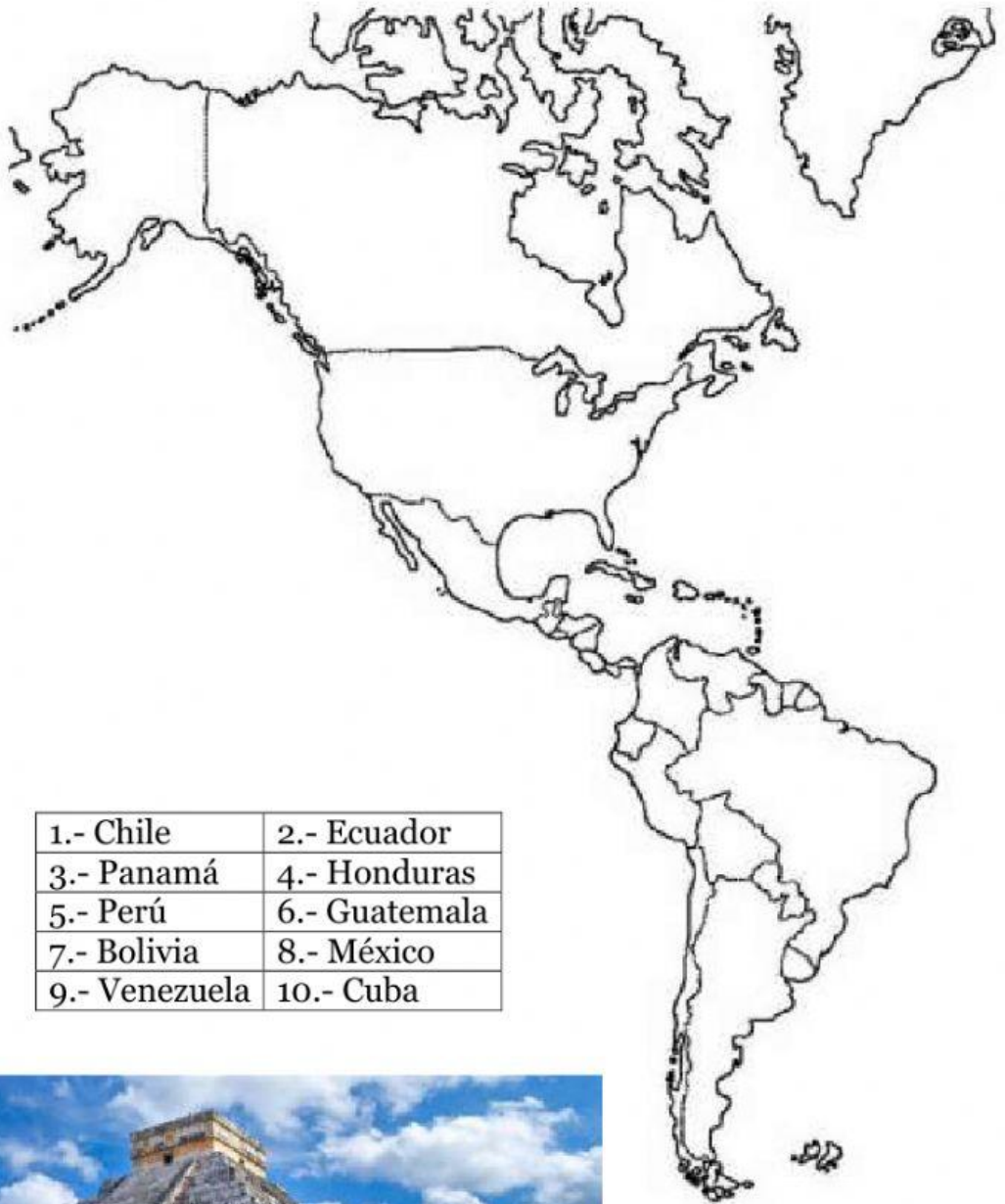
3.- China
4.- Malasia

5.- Camboya
6.- Vietnam

7.- India



América



1.- Chile	2.- Ecuador
3.- Panamá	4.- Honduras
5.- Perú	6.- Guatemala
7.- Bolivia	8.- México
9.- Venezuela	10.- Cuba

