









# FIGURAS GEOMÉTRICAS

Marca la respuesta correcta con una X:

1. ¿Cuál es la figura geométrica que tiene 3 lados?

 Cuadrado	 Triángulo	 Rectángulo	 Círculo
<input type="checkbox"/>	<input type="checkbox"/>	<input type="checkbox"/>	<input type="checkbox"/>

2. ¿Cuál es la figura geométrica que tiene 4 lados pero que sus lados opuestos o contrarios son iguales?

 Triángulo	 Rectángulo	 Círculo	 Cuadrado
<input type="checkbox"/>	<input type="checkbox"/>	<input type="checkbox"/>	<input type="checkbox"/>