







### Grade 5: 12 & 24 Hour Clocks

1. Write the digital times shown by the clocks below.

<p><b>A</b></p>  <p><input type="text"/> : <input type="text"/></p>	<p><b>B</b></p>  <p><input type="text"/> : <input type="text"/></p>	<p><b>C</b></p>  <p><input type="text"/> : <input type="text"/></p>
<p><b>D</b></p>  <p><input type="text"/> : <input type="text"/></p>	<p><b>E</b></p>  <p><input type="text"/> : <input type="text"/></p>	<p><b>F</b></p>  <p><input type="text"/> : <input type="text"/></p>

2. All the times shown in the clocks in question 1 are p.m. times. Write these times in 24 hour clock times.

**A**  :

**B**  :

**C**  :

**D**  :

**E**  :

**F**  :