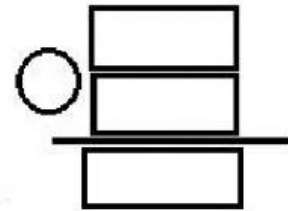


Hoy se ha inaugurado el nuevo polideportivo.
Han venido a la fiesta 278 adultos y 126 niños.
¿Cuántas personas han venido en total?

Datos

y



Solución: Han venido _____ personas.

1. Sumas

$$\begin{array}{r} \textcircled{} \\ 453 \\ + 137 \\ \hline \end{array}$$

$$\begin{array}{r} \textcircled{} \\ 291 \\ + 243 \\ \hline \end{array}$$

$$\begin{array}{r} \textcircled{} \quad \textcircled{} \\ 376 \\ + 145 \\ \hline \end{array}$$

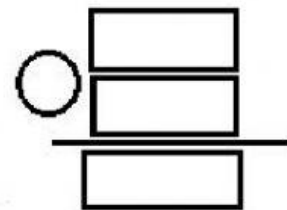
$$\begin{array}{r} \textcircled{} \quad \textcircled{} \\ 489 \\ + 56 \\ \hline \end{array}$$

2. Resuelve los problemas.

- En un campamento había 275 personas.
Hoy han llegado 65 más.
¿Cuántas personas hay ahora?

Datos

y

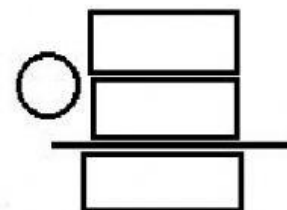


Solución: Hay _____ personas.

- Sara ha hecho 146 fotos y Luis ha hecho 109 más que ella.
¿Cuántas fotos ha hecho Luis?

Datos

y



Solución: Luis a hecho _____ fotos.