

MATEMATIK TAHUN 5

SOALAN BANDINGKAN NOMBOR











Antara yang berikut manakah yang **lebih besar**

- | | | |
|----|---------|---------|
| 1. | 128 356 | 128 465 |
| 2. | 658 951 | 602 951 |
| 3. | 498 644 | 498 643 |
| 4. | 844 310 | 574 310 |
| 5. | 501 667 | 501 677 |

Antara yang berikut manakah yang **lebih kecil**

- | | | |
|----|---------|---------|
| 1. | 738 356 | 736 359 |
| 2. | 258 951 | 359 951 |
| 3. | 658 644 | 658 004 |
| 4. | 24 310 | 824 310 |
| 5. | 501 099 | 501 632 |

Pilih sama ada 'Lebih besar daripada' atau 'Lebih Kecil daripada'

1.	985 625		684 001
2.	658 614		562 245
3.	268 862		286 862
4.	460 624		501 644
5.	916 789		458 125
6.	681 364		477 610
7.	907 998		954 612
8.	555 333		333 555
9.	654 901		654 910
10.	654		10 301