

OLMECAS, MAYAS, TEOTIHUACANOS Y ZAPOTECOS-08/02/21

INSTRUCCIONES: Atiende la indicación de cada pregunta.

1.- Escribe debajo de cada cultura la palabra **Preclásico**, **Clásico** o **Posclásico**, según corresponda.

Zapotecos	Olmecas	Teotihuacanos	Mayas

2.- Escribe debajo de cada lapso la palabra **Preclásico**, **Clásico** o **Posclásico**, según corresponda.

900 a 1521 (d. C.)	200 a 900 (d. C.)	2500 a. C. a 200 d. C.

3.- Escribe debajo de cada zona geográfica la palabra **Zapotecos**, **Olmecas**, **Teotihuacanos** o **Mayas**, según corresponda.

Actual estado de Oaxaca	Actuales estados de Veracruz y Tabasco	Península de Yucatán y Guatemala	Altiplano central de México





4.- Escribe debajo de las ciudades la palabra **Zapotecos**, **Olmecas**, **Teotihuacanos** o **Mayas**, según corresponda.

San Lorenzo y La Venta	Palenque y Tikal	Monte Albán y Zaachila	Teotihuacán

5.- Escribe debajo de cada rasgo característico la palabra **Mayas**, **Teotihuacanos**, **Olmecas** o **Zapotecos**, según corresponda.

Pirámide del Sol	Uso del número cero	Esculturas de enormes cabezas	Excelentes tejedores y alfareros

6.- Escribe debajo de cada ilustración la palabra **Mayas**, **Teotihuacanos**, **Olmecas** o **Zapotecos**, según corresponda.

Profr. Julián A.