

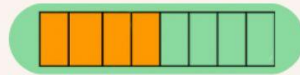


Repasamos

1. Completa en cada caso con el gráfico que corresponde.
2. Escribe como se lee cada una de las fracciones.
3. Clasifica las fracciones presentadas.



SE LEE:

$$\frac{1}{3}$$

ES UNA FRACCIÓN:

GRAFICACIÓN:

SE LEE:

$$\frac{5}{5}$$

ES UNA FRACCIÓN:

GRAFICACIÓN:

SE LEE:

$$\frac{4}{8}$$

ES UNA FRACCIÓN:

GRAFICACIÓN:

SE LEE:

$$\frac{6}{2}$$

ES UNA FRACCIÓN:

GRAFICACIÓN:

SE LEE:

$$\frac{9}{5}$$

ES UNA FRACCIÓN:

GRAFICACIÓN:

SE LEE:

$$\frac{7}{7}$$

ES UNA FRACCIÓN:

GRAFICACIÓN: