














Observa los dibujos escribe la cantidad y realiza la operación correspondiente.

	+	<input type="text"/>
		<input type="text"/>
		<input type="text"/>
		<hr/>
		<input type="text"/>

	+	<input type="text"/>
		<input type="text"/>
		<input type="text"/>
		<hr/>
		<input type="text"/>

	+	<input type="text"/>
		<input type="text"/>
		<input type="text"/>
		<input type="text"/>
		<hr/>
		<input type="text"/>