

SDN NO.21 BATANGLAMPE

SOAL PAT TEMA 9



WAHYUNITA.,S.Pd.,Gr



SD NEGERI NO.21 BATANG LAMPE
PENILAIAN AKHIR TAHUN (PAT)
TAHUN PELAJARAN 2022/2023

Alamat : Pulau Batang Lampe Desa Pulau Padaelo Kec. Pulau Sembilan Kab. Sinjai



Nama	:		Hari, Tanggal	:	
Kelas/Semester	:	5/ 2	Tema	:	9

Jawablah pertanyaan dibawah ini !

Perhatikan gambar di bawah ini!

(Untuk menjawab soal nomor 1 dan 2)



1. Berdasarkan gambar diatas perilaku yang mencerminkan persatuan dan kesatuan di dalam masyarakat adalah....
 - A. melempar tanggung jawab
 - B. sering melewati giliran ronda
 - C. hanya berteman dengan yang seagama.
 - D. membersihkan lingkungan bersama-sama
2. Kegiatan bekerjasama untuk menyelesaikan pekerjaan demi kepentingan bersama tanpa memandang perbedaan satu sama lain dapat diwujudkan di dalam kegiatan....
 - A. beribadah
 - B. jalan sehat
 - C. gotong royong
 - D. hidup berdampingan
3. Hidup rukun artinya saling menghormati dan menyayangi antara sesama manusia. hidup rukun dilakukan di rumah,sekolah,masyarakat.kondisi kehidupan yang rukun akan menimbulkan rasa : bahu membahu,saling tolong menolong,menjauhi perselisihan dan pertikaian antara sesama.akibat tidak menerapkan perilaku hidup rukun adalah....
 - A. hidup menjadi tentram
 - B. terwujud rasa perdamaian
 - C. mudah terjadi pertengkaran
 - D. terjalin persatuan dan kesatuan

4. Menerapkan perilaku yang menunjukkan rasa persatuan dan kesatuan dalam kehidupan adalah hal yang sangat dianjurkan bagi masyarakat Indonesia. Pasalnya, Indonesia termasuk negara yang memiliki penduduk majemuk dengan beragam perbedaan latar belakang baik dari segi suku bangsanya, budayanya, ataupun kepercayaan dan beserta adat istiadatnya. perilaku yang menjunjung tinggi persatuan dan kesatuan adalah....
- A. konflik antarsuku
 - B. tawuran antarpelajar atau warga
 - C. merendahkan atau mengejek agama lain
 - D. saling menghargai dan menerima perbedaan pendapat tanpa merasa tersinggung

Perhatikan gambar di bawah ini!

(Untuk menjawab soal nomor 5 dan 6)



5. Tuliskan unsur-unsur yang terdapat dalam sebuah iklan!

Jawab :

6. Jelaskan informasi apa yang terdapat dalam iklan di atas?

Jawab :

7. Iklan adalah suatu cara yang digunakan untuk menawarkan atau mempromosikan barang atau jasa.
iklan biasanya ada dimedia cetak.

Tuliskan yang termasuk iklan media cetak!

Jawab :

8. Iklan adalah sebuah informasi yang bertujuan untuk mendorong, membujuk/ memberikan pengaruh pada khalayak ramai atau banyak orang agar tertarik pada barang/jasa yang ditawarkan. Iklan elektronik adalah iklan yang menggunakan media berbasis perangkat elektronik. Secara spesifik, iklan elektronik dapat berupa iklan radio, iklan televisi, iklan media digital interaktif (Internet).

Jelaskan pengertian dari iklan media digital interaktif?

Jawab :

9. Bacalah teks berikut ini!

Semua benda yang ada di sekitar kita termasuk materi. materi adalah segala sesuatu yang menempati ruang dan mempunyai massa. berdasarkan komposisi penyusunnya, materi dibedakan menjadi zat tunggal dan campuran. zat tunggal merupakan zat yang terdiri atas materi sejenis. Contoh benda termasuk dalam zat tunggal adalah air, garam, gula, dan emas 24 karat. zat campuran adalah zat yang terdiri atas beberapa jenis materi atau zat tunggal. campuran dapat dibedakan menjadi campuran homogen dan campuran heterogen. campuran homogen merupakan campuran yang zat penyusunnya tercampur sempurna. Pada campuran homogen, zat penyusunnya tidak dapat dibedakan. contoh: air garam, sirup, udara, perunggu, kuningan. campuran heterogen merupakan campuran yang zat penyusunnya tidak tercampur sempurna. Pada campuran heterogen, zat penyusunnya masih dapat dibedakan. contoh: campuran air dengan kopi, air dengan tepung, dan air dengan pasir.

Berilah tanda centang (✓) pada kolom benar dan salah terhadap pernyataan yang sesuai dengan pengertian zat tunggal dan zat campuran

Pernyataan	Benar	Salah
Zat tunggal merupakan zat yang terdiri atas materi sejenis		
Campuran adalah zat yang tersdiri atas beberapa jenis materi		
Campuran homogen adalah campuran yang tidak tercampur sempurna		
Contoh zat heterogen adalah air dengan kopi, dan air dengan tepung		

10. Zat tunggal merupakan zat yang terdiri atas materi sejenis.

Yang termasuk zat tunggal adalah

- ☐ Air
- ☐ Emas
- ☐ Sirup
- ☐ Garam
- ☐ Gula

11. Zat campuran adalah zat yang terdiri atas beberapa jenis materi atau zat tunggal.

Yang termasuk zat campuran adalah

- ☐ sirup
- ☐ air garam
- ☐ pasir
- ☐ Gula

12. Zat campuran homogen merupakan campuran yang zat penyusunnya tercampur sempurna. Pada campuran homogen, zat penyusunnya tidak dapat dibedakan.

Yang termasuk zat campuran homogen ialah....

- ☐ air dan pasir
- ☐ perunggu
- ☐ air
- ☐ kuningan

13. Hubungkanlah bentuk usaha dalam kegiatan ekonomi masyarakat Indonesia yang ada dilajur kiri dan dilajur kanan!



PERTAMBANGAN



INDUSTRI



KEHUTANAN

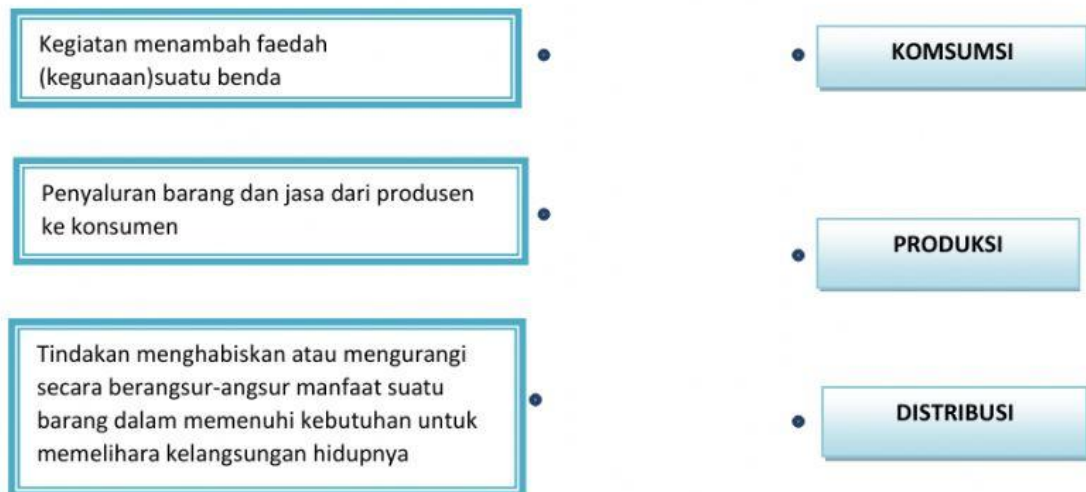


PERTANIAN

14. Kegiatan ekonomi adalah suatu kegiatan seseorang, perusahaan, maupun masyarakat, untuk memproduksi barang dan jasa maupun mengonsumsi barang dan jasa tersebut. pekerjaan. Setiap manusia tidak akan terlepas dari kegiatan ekonomi. kegiatan ekonomi tidak hanya dilakukan oleh seseorang, namun juga dilakukan oleh perusahaan, organisasi, pemerintah, bahkan negara. kegiatan utama yang dilakukan dalam bidang ekonomi terdiri atas:

Produksi yaitu kegiatan menambah faedah (kegunaan) suatu benda. produksi juga berarti menciptakan benda baru sehingga lebih bermanfaat dalam memenuhi kebutuhan. tujuan dari kegiatan produksi secara umum adalah untuk memenuhi kebutuhan manusia dalam rangka mencapai kemakmuran. distribusi adalah penyaluran atau penyampaian barang-barang dan jasa dari produsen ke konsumen. tujuan dari distribusi adalah menyampaikan barang atau jasa dari tempat produsen ke tempat pengguna atau pemakai. konsumsi adalah tindakan menghabiskan atau mengurangi secara berangsur-angsur manfaat suatu barang dalam memenuhi kebutuhan untuk memelihara kelangsungan hidupnya.

Hubungkanlah kegiatan utama yang dilakukan dalam bidang ekonomi yang ada di lajur kiri dan lajur kanan!



15. Perdagangan adalah kegiatan yang bertujuan menyalurkan barang dan jasa dari produsen ke konsumen. Barang-barang yang diperdagangkan merupakan hasil-hasil pertanian, peternakan, perikanan, hutan, dan barang-barang hasil industri. Perdagangan yang dilakukan antar negara disebut ekspor impor. Ekspor adalah usaha mengirim dan menjual barang keluar negeri. Impor adalah usaha memasukkan dan membeli barang dari luar negeri.

Pasangkan kegiatan perdagangan yang dilakukan antar negara disebut ekspor impor yang ada pada sisi kiri dengan jawaban yang tepat pada sisi kanan!



16. Pasangkan gambar sesuai dengan mata pencarian di bawah ini!



Petani garam




Petani rumput laut



Nelayan

Penambak ikan

17. Perhatikan gambar di bawah ini !



Pola lantai yang disajikan penari adalah

18. Perhatikan gambar di bawah ini !




Alat yang digunakan untuk mengiringi saat menari...

19. Perhatikan gambar di bawah ini !



Salah satu contoh tarian nusantara yang berasal dari Sulawesi Selatan yang disebut

20. Perhatikan gambar di bawah ini !



Batik motif awan berasal dari daerah....