


Entiendo las divisiones

1. Escribe y resuelve las siguientes divisiones.

El dividendo es 46 y el divisor es 2.



El divisor es 5 y el dividendo 125.



El divisor es 4 y el dividendo 240.



2. Resuelve y escribe si la división es exacta o inexacta.

8 3 0 | 8

6 2 5 | 5

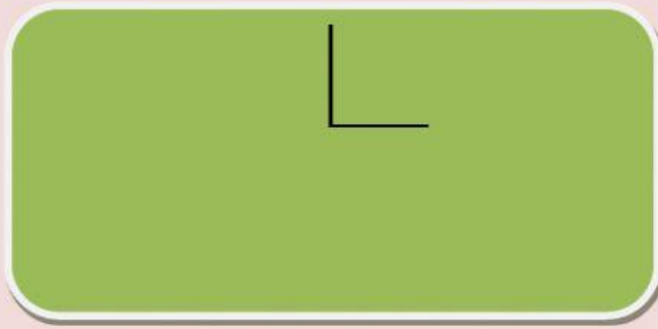
4 4 | 4

8 6 | 7

3. Averigua el término que falta en cada división.

Dividendo	Divisor	Cociente	Resto
	6	72	3

Entiendo las divisiones



Dividendo	Divisor	Cociente	Resto
7852	8		

4. Une cada división con su resultado.

$427 : 7 =$

73

$324 : 9 =$

36

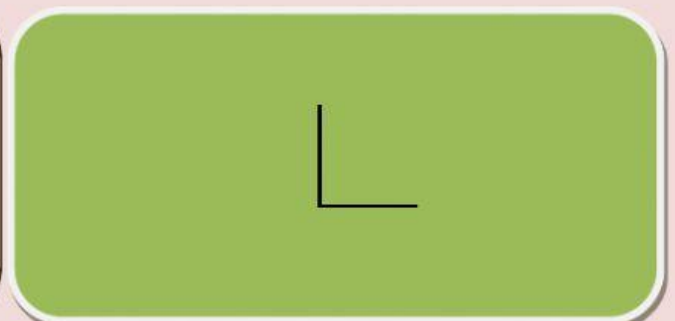
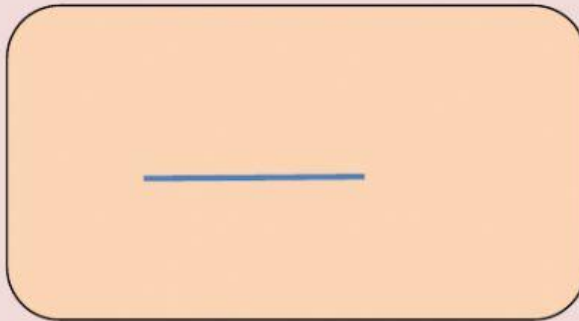
$292 : 4 =$

64

$320 : 5 =$

61

5. En una frutería había al comienzo de la mañana 3325 piezas de fruta. Han vendido ya 1262. Con las que quedan van a hacer 7 cajas iguales. ¿Cuántas piezas de fruta tendrá cada caja? ¿Sobrarán alguna fruta?



6. Observa la entrada del cine y responde las preguntas.

1. ¿Para qué película es?
2. ¿Cómo se llaman los cines?
3. ¿En qué sala proyectan la película elegida?
4. ¿En qué fila está la butaca que hemos comprado?
5. ¿A qué hora empieza?
6. Simón y sus amigos han reunido 64€ para comprar entradas. Cada una de las entradas cuesta 6€. ¿Cuántas entradas podrán comprar?
7. ¿Sobrarán algo de dinero?

CINES RELUZ		
Among Us y la división		
Sala	Sesión	Fecha
7	17:30	08-02-21
Patio		
F: 12	B: 9	