

ESC. SECUNDARIA "GABRIELA MISTRAL"

EXAMEN DE TECNOLOGIA 2°

TERCER PARCIAL

COMPUTACION – INFORMATICA

Nombre completo: _____ Grado y grupo: _____

II. Instrucciones: Entre las cinco opciones que sigue a cada frase, elige la que complementa de manera correcta la idea expresada.

1.- Las afectaciones de la naturaleza pueden tener tres tipos de alcance

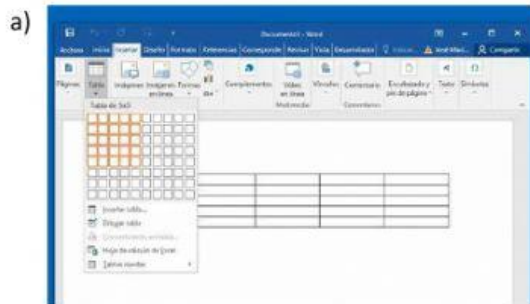
2.-) Los sistemas técnicos, mediante las interacciones entre personas, máquinas e insumos, son los medios utilizados para la creación de _____ que satisfagan las necesidades o intereses de un grupo social.

3. El uso de recursos naturales en los sistemas técnicos tiene diferentes grados de:

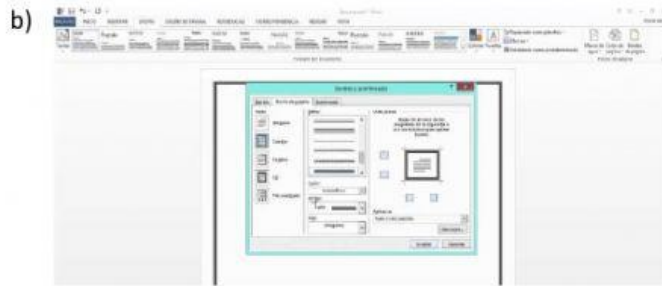
4.- La satisfacción de las necesidades más inmediatas en la pirámide de Maslow es una de las razones por las que vivimos en una:

5.- En la casa, la escuela, la calle y cualquier lugar, es necesario tomar:

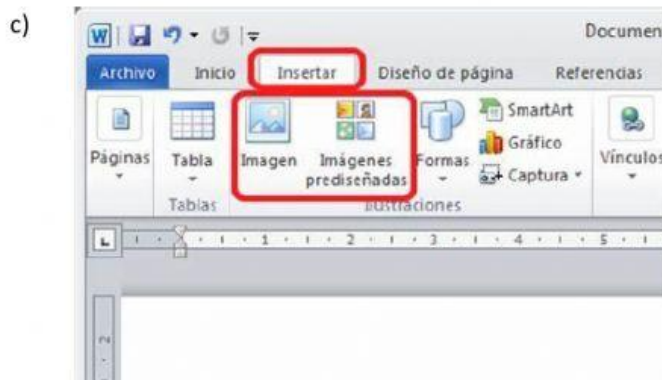
II. Instrucciones: Relaciona las imágenes con los conceptos



GUARDAR ARCHIVO



INSERTAR TABLA



AGREGAR BORDES A UNA HOJA



INSERTAR IMAGEN

