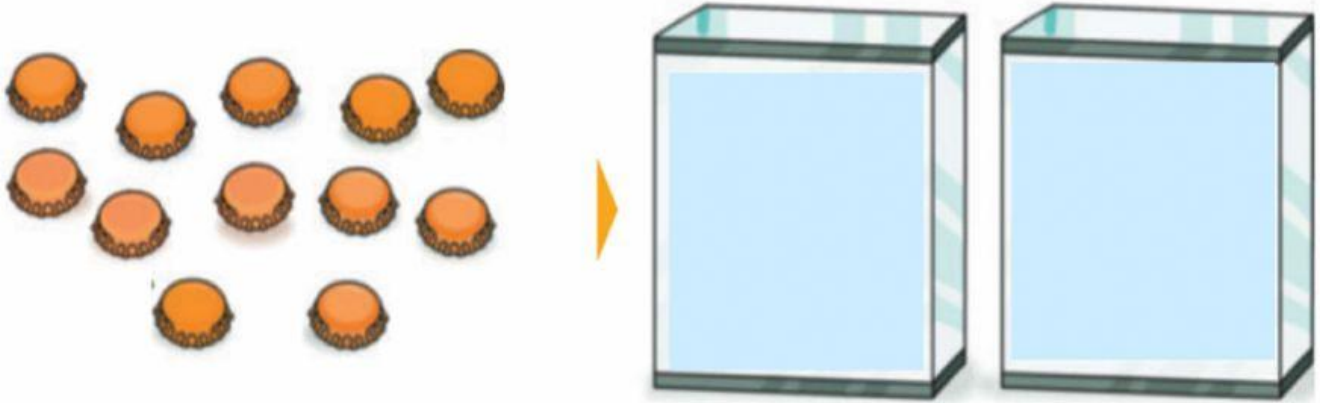


REPARTOS Y DIVISIÓN


1. Reparte 12 chapas en 2 cajas. Arrastra las chapas a sus cajas.



$$\boxed{12} : \boxed{2} = \boxed{}$$

En cada caja hay _____ chapas.


2. Reparte 9 chapas en 3 bolsas. Arrastra las chapas a sus bolsas.



$$\boxed{9} : \boxed{} = \boxed{}$$

En cada bolsa hay _____ chapas.

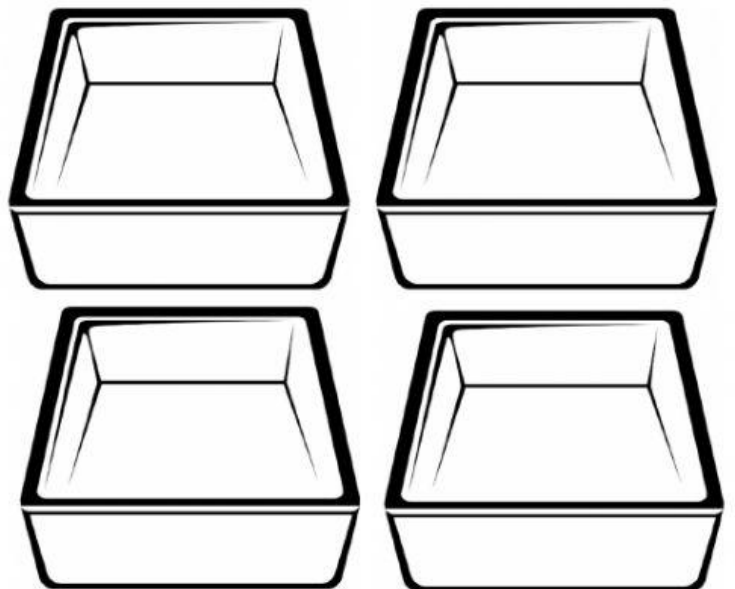
3. Reparte 12 manzanas en 3 botes. Arrastra a sus botes.



$$\boxed{12} \bigcirc \square = \square$$

En cada bote hay _____ manzanas.

4. Reparte 8 pelotas en 4 bandejas. Arrastra a sus bandejas.



$$\square \bigcirc \square = \square$$

En cada bandeja hay _____ pelotas.