



RESUELVO LO APRENDIDO

Une según correspondan:

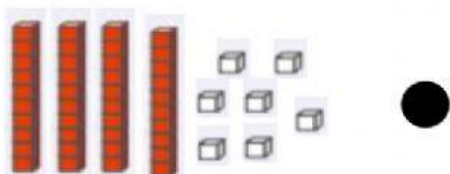


● 47

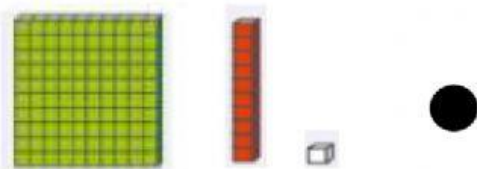
● 407



● 154



● 600



● 111

- Doscientos
- Cien
- Setecientos
- Ochocientos

- 600
- 200
- 100
- 800
- 700



¡USTEDES
PUEDEN NIÑOS
Y NIÑAS!



REALMENTE
SON MUY
INTELIGENTES

ARRASTRA la figura donde corresponde.

1

Figura tridimensional



Figura Bidimensional



2

Figura tridimensional

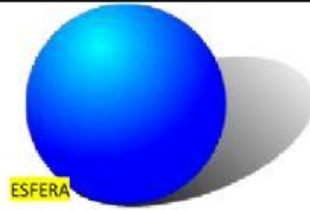
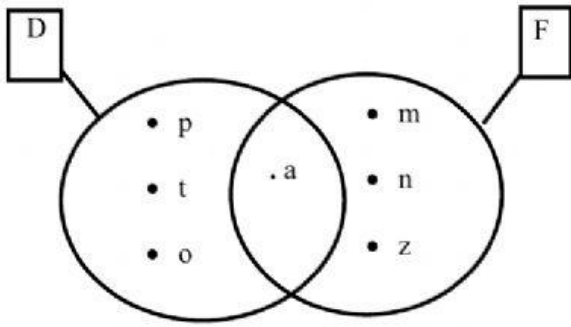


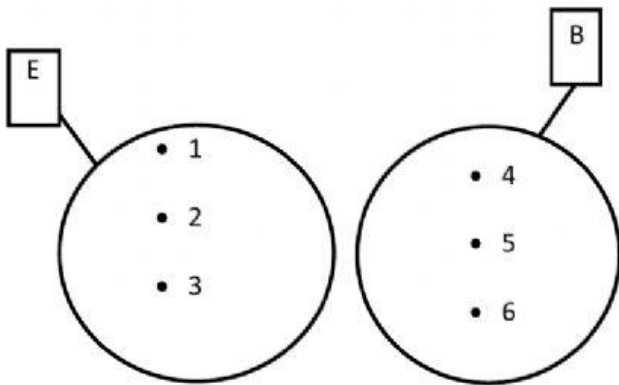
Figura Bidimensional



Hallar la INTERSECCIÓN del D y F



Hallar la UNIÓN del E y B



Gotze tiene 60 juguetes y su amigo Mathias tiene el doble que él. ¿Cuántos juguetes tiene Mathias?



Valentina recibió 80 caramelos y su amiga Kalesi recibió el doble que ella. ¿Cuántos caramelos recibió Kalesi?

