





25. Perhatikan gambar tokoh proklamasi berikut!

No.	Tokoh Proklamasi	No.	Peran dalam proklamasi
1		R	Menyusun teks Proklamasi dan beliau pula yang membacakan naskah proklamasi kemerdekaan Indonesia
2		S	Tokoh proklamasi yang pertama mendengar kabar bahwa Jepang menyerah tanpa syarat kepada Sekutu setelah pengeboman di Hiroshima dan Nagasaki.
3		T	Merupakan konseptor yang menyumbangkan pikirannya dalam penyusunan naskah proklamasi kemerdekaan. Beliau menyumbangkan kalimat pertama yang berbunyi "Kami bangsa Indonesia dengan ini menyatakan kemerdekaan"
4		U	Berperan mengetik naskah teks proklamasi kemerdekaan Indonesia. Beliau mengetik teks proklamasi yang telah disempurnakan dari tangan Bung Karno.

Berdasarkan tabel tersebut, tokoh proklamasi kemerdekaan Indonesia yang sesuai dengan perannya ditunjukkan oleh nomor

- A. 1-R dan 2-S
- B. 1-U dan 2-R
- C. 2-T dan 3-U
- D. 3-S dan 4-U

I. Pilihlah dua untuk jawaban yang benar!

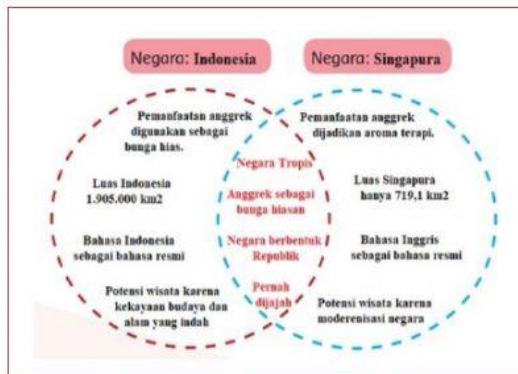
26. Perhatikan gambar berikut!



Berdasarkan gambar tersebut, pernyataan berikut merupakan dua kegiatan yang sesuai menunjukkan modernisasi adalah

- ☐ adanya pembelajaran les privat yang dilakukan tatap muka di rumah guru
- ☐ meningkatnya daya beli buku dan bertambahnya pengunjung ke perpustakaan daerah
- ☐ adanya buku panduan *e-book* yang lebih praktis dan ramah lingkungan
- ☐ Banyak bermunculan bimbingan belajar secara *online*

27. Perhatikan Diagram Venn berikut ini!



Setelah mencermati diagram Venn tersebut, berikan tanda centang (✓) dua karakteristik dari negara Indonesia adalah

- ☐ Merupakan negara tropis, pemanfaatan anggrek dijadikan sebagai bunga hias.
- ☐ Merupakan negara tropis, pemanfaatan anggrek di dijadikan sebagai aroma terapi.
- ☐ Memiliki luas wilayah kurang lebih 1,9 juta km², bahasa resminya bahasa Indonesia.
Potensi wisata sangat melimpah sebab memiliki kekayaan alam dan budaya.
- ☐ Memiliki luas wilayah kurang lebih 719 km², bahasa resminya bahasa Inggris,
potensi wisata unggulan.

28. Perhatikan tabel pengamatan kegiatan interaksi masyarakat, pengaruh negatif yang terjadi dan usaha untuk memperbaiki dengan lingkungan berikut ini!

Bentuk Kegiatan Interaksi	Pengaruh Budaya Yang Terjadi	Usaha Untuk Memperbaiki
Membuang sampah di sungai	Sungai menjadi kotor dan banjir saat musim penghujan tiba	Membuat bank sampah/ tempat pembuangan akhir
Membuang sampah sembarangan	Lingkungan menjadi kotor	Menyediakan tempat sampah
Penebangan dan pembakaran hutan secara liar	Hutan menjadi gundul dan daerah resapan air akan hilang yang mengakibatkan banjir dan tanah longsor.	...
Pembuangan limbah atau kotoran sapi ke sungai	Air sungai menjadi keruh dan menimbulkan bau tidak sedap	...

Dari tabel tersebut, pernyataan yang sesuai untuk melengkapi tabel yang kosong adalah ...

- ☐ melakukan penanaman kembali jenis pohon yang ditebang atau reboisasi
- ☐ diolah menjadi pupuk kompos atau bahan dasar biogas
- ☐ dimanfaatkan untuk lahan pertanian dan perkebunan secara berpindah
- ☐ mengalirkan limbah atau kotoran sapi melalui selokan warga supaya cepat kering

29. Perhatikan gambar berikut ini!



Objek Wisata Kebun Teh Jamus

Kebun Teh Jamus merupakan salah satu objek wisata yang terletak di Kabupaten Ngawi, Jawa Timur. Kebun teh yang luas dan berlokasi tepat di kaki Gunung Lawu, menyuguhkan keasriannya untuk para pengunjung. Letak Kebun Teh Jamus ini, tepatnya ada di Desa Girikerto Kecamatan Sine 40 KM ke arah Barat Daya dari Ngawi Kota. Akses jalan bisa ditempuh dengan menggunakan kendaraan pribadi, baik roda dua atau roda empat. Sepanjang perjalanan pengunjung disuguhkan dengan hamparan kebun teh yang luas, banyak pohon-pohon besar dan rindang. Kebun Teh Jamus

Berdasarkan gambar tersebut dua kegiatan ekonomi yang sesuai dengan kondisi geografis berdasarkan letaknya adalah

- ☐ masyarakat di daerah pegunungan bercocok tanam dengan sistem perkebunan
- ☐ didirikan industri teh disekitar perkebunan
- ☐ melakukan kegiatan perdagangan dan membangun Ritel
- ☐ pembukaan tempat wisata, dan bumi perkemahan

30. Perhatikan tabel berikut dengan teliti!

No.	Jenis Usaha	Sumber Daya Alam yang digunakan	Hasil Usaha
1.	Pertanian	Lahan persawahan	Padi dan jagung
2.	Peternakan	Lahan luas untuk beternak	Sapi dan ayam
3.	Perikanan	Sumber daya perairan	Lobster dan nila
4.	Pertambangan	Permukaan dan bawah permukaan bumi.	Minyak bumi dan emas

Berdasarkan tabel tersebut, terdapat 2 alasan yang tepat mengapa masyarakat memiliki kegiatan ekonomi yang cenderung beragam?

- ☐ adanya perbedaan kekayaan sumber daya alam yang ada.
- ☐ perbedaan keterampilan yang dimiliki oleh masing-masing individu
- ☐ persaingan dan permintaan dunia usaha
- ☐ persamaan program dan tujuan pada suatu daerah

II. Menjodohkan

31. Pasangkanlah gambar peninggalan bersejarah kerajaan Hindu-Budha berikut dengan keterangan yang sesuai!



A. O

O 1. Candi Cetho

O 2. Candi Borobudur

O 3. Candi Prambanan

B. O

32. Perhatikan teks berikut!

Cerita Dira dan Made

Di siang hari yang panas, terlihat Dira dan Made sedang duduk di taman bermain. "Dir, kalau panas-panas gini aku jadi kangen Bali, pengen main di pantainya deh!" kata Made dengan wajah cemberut.

"Aku juga kangen, biasanya pas libur sekolah aku pergi ke pantai. Aku pernah ke pantai Kuta di Bali, pantai Senggigi di Lombok, dan pantai Parangtritis di Jogja!" ucap Dira. Made kaget mendengar ucapan Dira, "Hah? Emang Indonesia punya banyak pantai yah? Aku kira pantai cuma ada di Bali aja?"

"Ya *enggga* dong, dari letak geografis aja, gak mungkin Indonesia hanya punya satu pantai!" ucap Dira sambil menggelengkan kepala.

Berdasarkan teks “Cerita Dira dan Made” tersebut, pasangkanlah potensi kekayaan alam berikut dengan ciri-ciri negara maritime dan agraris dengan benar!

Potensi dan kekayaan berupa hasil laut yang bisa digunakan sebagai sumber pangan, tempat wisata, energi alternatif, dan sebagainya.

O. 1. Negara Agraris


O. 2. Negara Maritim

O. 3. Negara Kepulauan

Potensi dan kekayaan berupa potensi yang berhubungan dengan pertanian, perkebunan, perhutanan, dan peternakan.

33. Perhatikan teks berikut!

Penjajahan Bangsa Barat



Bangsa Barat tiba di Indonesia ketika sedang melakukan penjelajahan samudra. Mereka mulai melakukan penjelajahan samudra karena ilmu pengetahuan dan teknologi yang berkembang pesat. Salah satu latar belakang kedatangan bangsa-bangsa Eropa ke Indonesia adalah Semboyan 3G.

Gold adalah adanya keinginan mencari kekayaan. Kekayaan yang mereka cari terutama adalah rempah-rempah. Di Eropa, harga rempah-rempah sangat mahal. Harga rempah-rempah semahal emas. Mereka sangat membutuhkan rempah-rempah untuk industri obat-obatan dan bumbu masak. Sementara di Indonesia jumlah rempah-rempah berlimpah. Mereka ingin menguasai rempah-rempah di Indonesia.

Gospel adalah adanya keinginan menyebarkan agama. Selain mencari kekayaan dan tanah jajahan, bangsa Eropa juga membawa misi khusus. Misi khusus tersebut adalah menyebarkan agama kepada penduduk daerah yang dikuasainya. Tugas mereka ini dianggap sebagai tugas suci yang harus dilaksanakan dan dipelopori oleh bangsa Portugis.

Glory adalah adanya keinginan mencari kejayaan. Di Eropa, ada suatu anggapan bahwa apabila suatu negara mempunyai banyak tanah

Berdasarkan teks tersebut, pasangkan faktor penyebab bangsa barat melakukan penjajahan di Indonesia sesuai istilah yang benar adalah

Mencari kekayaan yang mereka cari terutama adalah rempah-rempah. Harga rempah-rempah bisa semahal dengan harga emas. Mereka sangat membutuhkan rempah-rempah untuk industri obat-obatan dan bumbu masak

A. O

O. 1

Gold

O. 2

Gospel

O. 3

Glory

Keinginan mencari kejayaan. Di Eropa, ada suatu anggapan bahwa apabila suatu negara mempunyai banyak tanah jajahan, negara itu termasuk negara yang jaya. Dengan adanya anggapan ini, negara-negara Eropa berlomba-lomba untuk mencari tanah jajahan sebanyak-

O

34. Pasangkanlah penemuan alat-alat berikut dengan penemu yang mengubah dunia secara tepat!



A. O

O. 1. Alexander Graham Bell

O. 2. Thomas Alva Edison

O. 3. Cahrles Goodyear



B. O

35. Pasangkanlah gambar icon negara dengan asal negara berikut ini!



A. O

O. 1. Indonesia

O. 2. Malaysia

O. 3. Singapura



B. O

III. Soal Benar salah

36. Pengertian Sumber Daya Alam Sumber daya alam (biasa disingkat SDA) adalah segala sesuatu yang muncul secara alami yang dapat digunakan untuk pemenuhan kebutuhan manusia pada umumnya. Yang tergolong di dalamnya tidak hanya komponen biotik, seperti hewan, tumbuhan, dan mikroorganisme saja, tetapi juga komponen abiotik, seperti minyak bumi, gas alam, berbagai jenis logam, air, dan tanah. Berdasarkan Jenis Menurut jenisnya, sumber daya alam dibagi dua sebagai berikut : Sumber daya alam nonhayati (abiotik);

disebut juga sumber daya alam fisik, yaitu sumber daya alam yang berupa benda-benda mati. Misalnya : bahan tambang, tanah, air, dan kincir angin. Sumber daya alam hayati (biotik); merupakan sumber daya alam yang berupa makhluk hidup. Misalnya: hewan, tumbuhan, mikroba, dan manusia. Sumber daya alam mutlak diperlukan untuk menunjang kebutuhan manusia, Pada umumnya, sumber daya alam berdasarkan sifatnya dapat digolongkan menjadi sumber daya alam yang dapat diperbaharui dan sumber daya alam tak dapat diperbaharui. Sumber daya alam yang dapat diperbaharui adalah kekayaan alam yang dapat terus ada selama penggunaannya tidak dieksploitasi berlebihan. Tumbuhan, hewan, mikroorganisme, sinar matahari, angin, dan air adalah beberapa contoh sumber daya alam terbaharukan.

Setelah membaca teks tersebut, kita sudah bisa membedakan jenis-jenis SDA

Centanglah benar atau salah pernyataan berikut!

	Pernyataan	B	S
A	Yang tergolong SDA biotik :hewan,tumbuhan,mikroorganisme		
B	yang tergolong SDA Abiotik :tanah ,air,bahan tambang,matahari		
C	Yang tergolong SDA hayati:manusia,hewan,angin,pegunungan,udara		

37. Interaksi manusia dalam kehidupan ekonomi Manusia dalam hidupnya selalu berhubungan dengan lingkungan alam (fisik) dan lingkungan nonfisik. Lingkungan fisik terdiri atas air, tanah, udara, flora, dan fauna. Lingkungan nonfisik terdiri atas lingkungan sosial, ekonomi, dan budaya. Alam menyediakan segalanya bagi kebutuhan hidup manusia, tetapi alam juga mempunyai keterbatasan. Pada saat manusia belum berkembang sebanyak seperti sekarang, keseimbangan antara kebutuhan manusia dan tersedianya kebutuhan itu boleh dikatakan hampir tidak masalah. Namun, pada saat mulai terjadi ledakan penduduk, manusia mulai menyadari bahwa alam tidak selamanya dapat menyediakan segala bentuk kebutuhan manusia. Setelah membaca teks tersebut, kita dapat membedakan jenis lingkungan fisik dan non fisik pada lingkungan di sekitar kita. Centanglah benar atau salah pernyataan berikut!

	Pernyataan	B	S
A	Yang termasuk lingkungan non fisik antara lain sosial,ekonomi ,budaya		
B	Yang termasuk lingkungan elit : sandang,pangan,papan ,pendidikan		
C	Yang termasuk lingkungan fisik antara lain air ,tanah,udara,flora dan fauna		

38. Masyarakat pesisir yang hidup di daerah pantai umumnya menggantungkan hidup pada sumber daya kelautan, baik dari sisi perikanan, pertanian, ataupun objek wisatanya. Meskipun tidak semua penduduk pesisir menjadi nelayan, namun kondisi alam dan iklim daerah pantai juga berkontribusi membentuk kebudayaan masyarakat setempat. Daerah pantai, secara definitif adalah wilayah perbatasan antara daratan dan lautan. Sementara itu, pesisir adalah wilayah antara batas tertinggi saat air laut pasang hingga batas terendah saat air laut surut. Indonesia merupakan negara maritim dengan garis pantai sepanjang 54.716 km. Untuk pengaturan pantainya, terdapat UU No. 27 Tahun 2007 yang menyatakan bahwa pantai adalah daratan sepanjang tepian yang lebarnya proporsional dengan bentuk dan kondisi fisik pantai, minimal 100 meter dari titik pasang tertinggi ke arah

Dari pernyataan di atas mayoritas penduduk pantai bekerja sebagai :

	Pernyataan	B	S
A	Nelayan		

B	Petani garam		
C	Pelelang		

39. Perhimpunan Bangsa-bangsa Asia Tenggara atau ASEAN (Association of South East Asian Nations) lahir dari konferensi lima negara Asia Tenggara pada 8 Agustus 1967. Konferensi tersebut disebut juga sebagai Persetujuan Bangkok atau Deklarasi Bangkok. Lima negara yang menandatangani Deklarasi Bangkok adalah Indonesia (diwakili Adam Malik), Malaysia (diwakili Tun Abdul Razak), Singapura (diwakili S Rajaratnam), Filipina (diwakili Narcisco Ramos), dan Thailand (diwakili Thanat Khoman). Tujuan didirikannya ASEAN adalah mempercepat pertumbuhan ekonomi, sosial, dan budaya di kawasan Asia Tenggara. Tujuan tersebut dilaksanakan melalui kerja sama dalam berbagai bidang. Pada bidang IPTEK khususnya, apa saja bentuk kerja sama ASEAN?

- Mengelola pusat penelitian ilmu pengetahuan matematika atau Regional Centre for Education in Science and Mathematics (RECSAM) di Penang, Malaysia.
- Mengelola pusat penelitian untuk biologi atau Regional Centre for Tropical Biology (Biotrop) yang pusatnya di Bogor, Indonesia.
- Mengelola pusat pendidikan bahasa Inggris atau Regional English Language Center (RELC) di Singapura.
- Mengelola lembaga penelitian dan pengkajian pertanian atau Regional Centre of Graduate Study and Research in Agricultural (SEARCA) di Los Banos, Filipina.
- Membentuk pusat penelitian ASEAN COST (Committee on Science and Technology)
- Meningkatkan kualitas SDM atau sumber daya manusia agar memiliki daya saing.
- Meningkatkan jumlah tenaga ahli ASEAN sesuai kemampuan di bidangnya.

Dari bacaan di atas, centanglah pernyataan yang sesuai dengan kerja sama ASEAN dalam bidang IPTEK

	Pernyataan	B	S
A	Mengelola lembaga penelitian dan pengkajian pertanian atau Regional Centre of Graduate Study and Research in Agricultural (SEARCA) di Los Banos, Filipina.		
B	Membentuk pusat penelitian ASEAN COST (Committee on Science and Technology)		
C	Mengelola pusat penelitian ilmu pengetahuan matematika atau Regional Centre for Education in Science and Mathematics (RECSAM) di Penang, Malaysia.		

40. Perhimpunan Bangsa-bangsa Asia Tenggara atau ASEAN (Association of South East Asian Nations) lahir dari konferensi lima negara Asia Tenggara pada 8 Agustus 1967. Konferensi tersebut disebut juga sebagai Persetujuan Bangkok atau Deklarasi Bangkok. Lima negara yang menandatangani Deklarasi Bangkok adalah Indonesia (diwakili Adam Malik), Malaysia (diwakili Tun Abdul Razak), Singapura (diwakili S Rajaratnam), Filipina (diwakili Narcisco Ramos), dan Thailand (diwakili Thanat Khoman). Tujuan didirikannya ASEAN adalah mempercepat pertumbuhan ekonomi, sosial, dan budaya di kawasan Asia Tenggara. Tujuan tersebut dilaksanakan melalui kerja sama dalam berbagai bidang. Pada bidang Ekonomi khususnya, apa saja bentuk kerja sama ASEAN?

Bentuk Kerja Sama ASEAN di Bidang Ekonomi

- Memajukan ekonomi pariwisata kawasan ASEAN
- Kerja sama proyek industri
- Meningkatkan pemenuhan cadangan pangan antarnegara ASEAN
- Meningkatkan peluang perdagangan bebas di kawasan negara-negara ASEAN

	Pernyataan	B	S
A	Menjaga stabilitas politik negara ASEAN		
B	Kerja sama proyek industri di negara kawasan ASEAN		
C	Memajukan ekonomi pariwisata kawasan ASEAN		

Selamat Mengerjakan