









CIENCIAS NATURALES – MATERIALES Y MATERIA - SEXTO AÑO - MATUTINA

- 12 De cada uno de los objetos mencionados a continuación, escriba (A) cuáles de ellos son de origen animal, (V) los de origen vegetal y (M) sobre los de origen mineral.

 correa de cuero	<input type="checkbox"/>	 caucho	<input type="checkbox"/>
 olla de cobre	<input type="checkbox"/>	 saco de lana	<input type="checkbox"/>
 chocolate	<input type="checkbox"/>	 ladrillo	<input type="checkbox"/>
 hojas	<input type="checkbox"/>	 llaves	<input type="checkbox"/>

- 13 **Completa** las siguientes frases con una de las palabras listadas a continuación.

material

artificial

muebles

natural

plástico

pigmentos

- a. Los materiales de origen _____ son obtenidos mediante tratamientos físicos.
- b. Los _____ son el principal material para lograr elaborar pinturas.
- c. Un _____ es una sustancia o materia que tiene alguna propiedad útil para el ser humano.
- d. La madera se puede usar en la construcción y fabricación de _____.
- e. Uno de los materiales que presenta el mayor número de usos es el _____.
- f. Los materiales de origen _____ son obtenidos mediante procesos químicos.

14

La columna de la izquierda representa el tipo de material, y en la columna de la derecha, un producto terminado con alguno de los materiales. **Une** con una línea qué material corresponde a cada producto.

amable

árbol

pigmentos

aleación metálica

fibra de carbono

plásticos

hoja de papel

raqueta de tenis liviana

escudo de guerra

taza de té

envase de alimentos

acuarelas