

Діагностувальна робота № 7 (1 варіант)

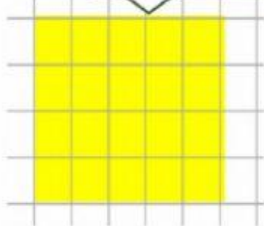
Величини. Сюжетні задачі

У бабусиному саду

Любчик, мама і тато приїхали до бабусі та допомагають їй працювати в саду та на городі.



1 Сад



1. Познач периметр саду?

а) 20 см б) 18 см в) 22 см

2. Познач площу саду?

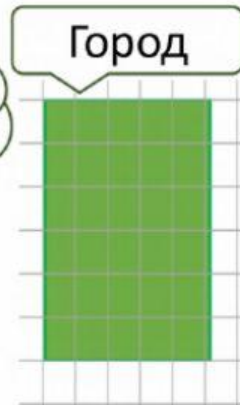
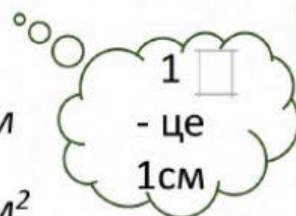
а) 20 см² б) 25 см² в) 16 см²

3. Познач периметр городу?

а) 36 см б) 22 см в) 30 см

4. Познач площу городу?

а) 36 см² б) 25 см² в) 30 см²



2

Родина Любчика обожає працювати в саду та вирощувати ягоди. Розв'яжи рівняння. Найбільший корінь рівняння підкаже тобі, які улюблені ягоди Любчика. Постав біля них галочку.

$530 - x \cdot 7 = 250$

$x : 216 + 202 = 205$



| | |
|---------------|-------------|
| $x \cdot 7 =$ | $x : 216 =$ |
| $x \cdot 7 =$ | $x : 216 =$ |
| $x =$ | $x =$ |
| $x =$ | $x =$ |



3

Бабуся Даринки любить вирощувати квіти. Обчисли вираз та дізнайся, яка їх кількість.



$5000 - (52160 : 815 + 208 \cdot 21) =$ штук

| | | | |
|-------------------------------|---|---|---|
| 1) $\underline{\hspace{2cm}}$ | 2) $\begin{array}{r} x \\ \underline{\hspace{2cm}} \\ \hspace{2cm} \end{array}$ | 3) $\begin{array}{r} + \\ \underline{\hspace{2cm}} \\ \hspace{2cm} \end{array}$ | 4) $\begin{array}{r} - \\ \underline{\hspace{2cm}} \\ \hspace{2cm} \end{array}$ |
|-------------------------------|---|---|---|



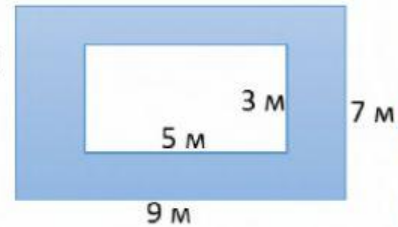
4

Родини Любчика та Ромчика вирішили відвідати парк тюльпанів. Вони виїхали назустріч з двох міст, відстань між якими 644 км, о 8 год ранку та зустрілися опівдні. Одна родина їхала зі швидкістю 82 км/год. З якою швидкістю їхала друга родина?



5

Бабуся з Даринкою засіяли травною газон прямокутної форми, залишивши посередині прямокутну ділянку для квітника. Як дізнатися, яка площа газону засіяна травною?



6



140 м² 2 а

4500 м² 45 а

170 м² 2 га

5 га 125 а

414 а 4 га

200 а 2 га

Перевір свою роботу. Виправ охайно помилки. Після перевірки постав «+»



Мені було легко виконувати завдання
(вкажи номери завдань)

Я мав проблему із завданням

Найскладнішим було завдання

