

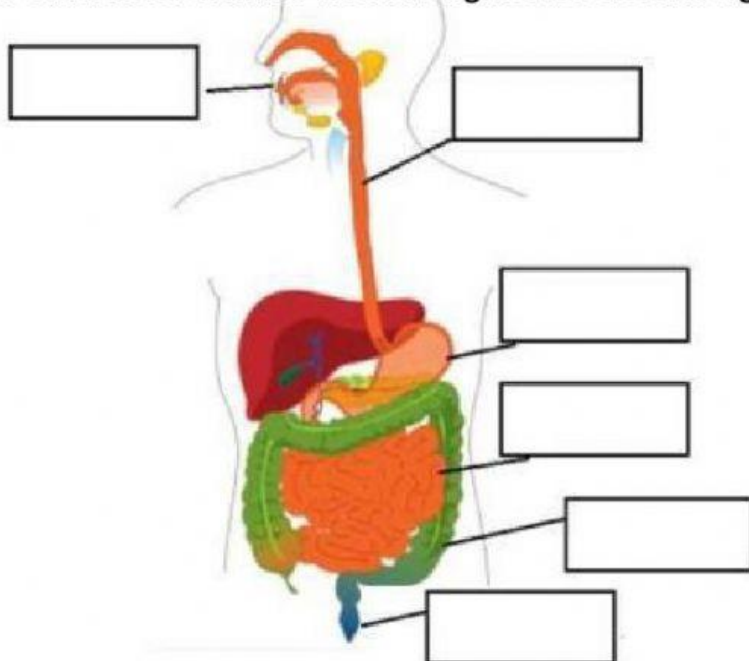
APELLIDO: _____ NOMBRE: _____

CURSO: ____ PARALELO: ____

SISTEMA DIGESTIVO

Realice las siguientes actividades propuestas

1. Arrastre el nombre de cada órgano del sistema digestivo, al lugar correspondiente.



Intestino grueso

Boca

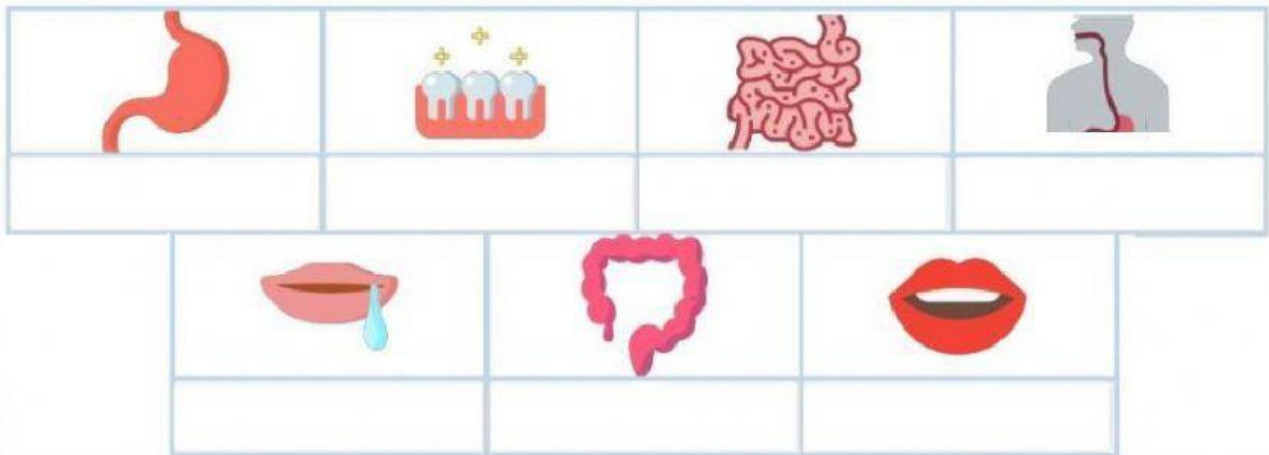
Estómago

Esófago

Recto y ano

Intestino delgado

2. Escribe el nombre de los órganos



dientes – intestino grueso – boca – saliva –
intestino delgado – estómago – esófago

MSc. Jhenny Maldonado

LIVEWORKSHEETS

3. Encuentra las palabras en la siguiente sopa de letras.

N	V	S	D	D	I	G	E	S	T	I	Ó	N	W
N	M	B	O	L	R	G	H	F	Q	E	S	M	P
Z	E	P	N	U	T	R	I	E	N	T	E	S	O
A	A	B	B	D	E	S	E	C	H	O	S	D	D
L	N	J	O	I	X	E	A	N	I	B	O	C	A
I	O	Z	L	V	Y	X	J	R	J	D	J	K	Q
M	V	D	O	E	N	E	R	G	Í	A	T	B	L
E	E	E	S	Ó	F	A	G	O	V	O	R	C	Y
N	Q	M	G	K	S	A	L	I	V	A	X	S	O
T	J	I	N	T	E	S	T	I	N	O	S	G	S
O	V	R	T	R	E	C	T	O	A	D	X	K	T
S	E	S	T	Ó	M	A	G	O	J	A	O	T	H
Y	Y	M	A	S	T	I	C	A	R	A	K	Y	K
X	G	U	Z	D	I	E	N	T	E	S	L	I	J

BOCA
BOLO
RECTO
ANO
ALIMENTOS
DESECHOS
DIGESTIÓN
ENERGÍA
NUTRIENTES
INTESTINOS
ESÓFAGO
ESTÓMAGO
DIENTES
SALIVA
MASTICAR

4. Selecciona verdadero o falso para cada afirmación.

1.- El cuerpo necesita energía para funcionar.

Verdadero

Falso

2.- Boca, estómago e intestinos forman parte del sistema digestivo.

Verdadero

Falso

3.- En el intestino grueso se absorben los nutrientes de los alimentos.

Verdadero

Falso

4.- La sangre lleva los nutrientes de los alimentos a todo el cuerpo.

Verdadero

Falso

5.- Por la boca se desechan los alimentos que no son absorbidos

Verdadero

Falso

MSc. Jhenny Maldonado

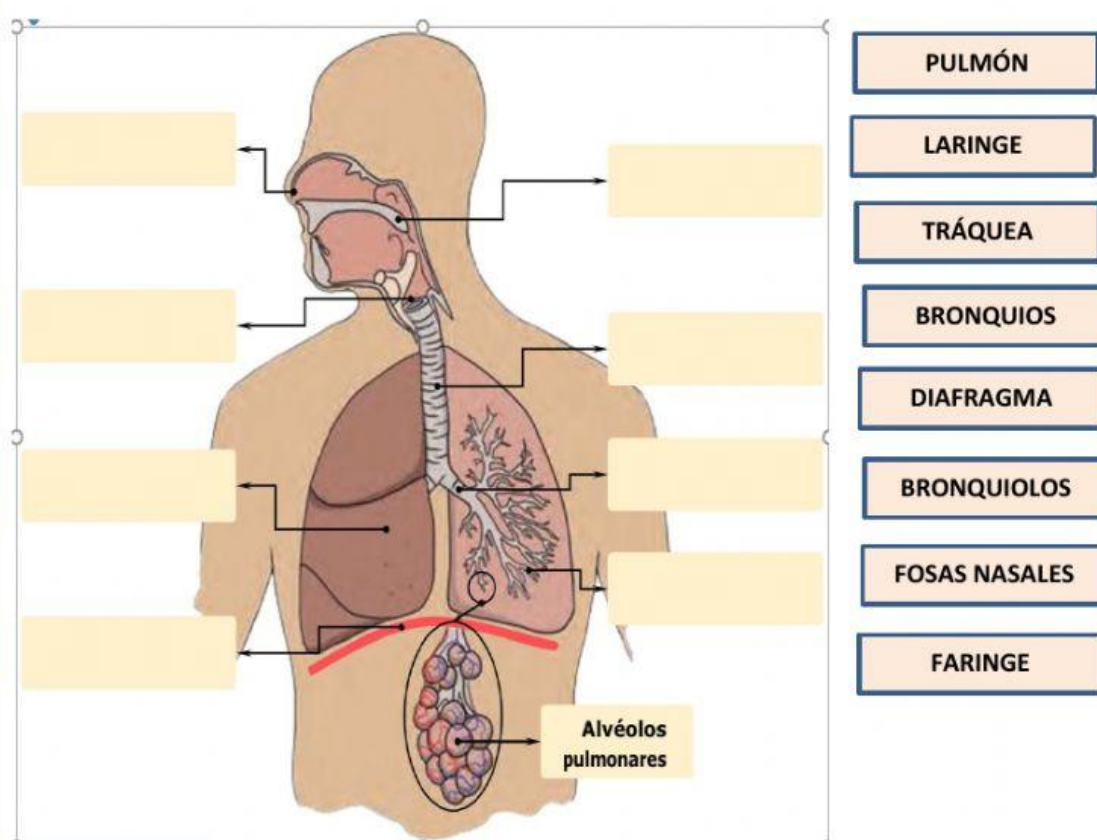
 **LIVEWORKSHEETS**

SISTEMA RESPIRATORIO

1. Complete la frase con las palabras que le den sentido.

- La **función** del **sistema respiratorio** es aprovechar el
- del aire, necesario para realizar todas las **funciones vitales**.
- Cuando los pulmones se **llenan** de **oxígeno** y se **expanden**, se produce la
- Cuando los pulmones se **vacías** y se **contraen**, se produce la
- Como producto del proceso de la **respiración** los pulmones expulsan

2. Arrastre el nombre de cada órgano con la ubicación correspondiente



MSc. Jhenny Maldonado

3. Enlace las ideas según corresponda

Pulmones

Conducto por donde el **aire** **desciende** desde las **fosas nasales** hacia la **laringe**.

Bronquiolos

Son dos **ramificaciones** de la **tráquea**, por los cuales el **aire** penetra en los **pulmones**.

Faringe

Órgano que **conduce** el **aire** hasta depositarlo en la **tráquea**.

Tráquea

Órganos que contienen los **alvéolos pulmonares** encargados del realizar el **intercambio de gases**.

Bronquios

Son diminutas **ramificaciones** que salen de los **bronquios** y en cuyo final se ubican los **alvéolos pulmonares**.

Laringe

Músculo que ayuda a que los **pulmones** se **expandan** y **contraigan** durante los movimientos respiratorios.

Fosas nasales

Especie de **tubo largo** y resistente que lleva el **aire** hacia los **bronquios**.

Diafragma

Órgano a través del cual el **aire** **ingresa** al interior del cuerpo.

MSc. Jhenny Maldonado