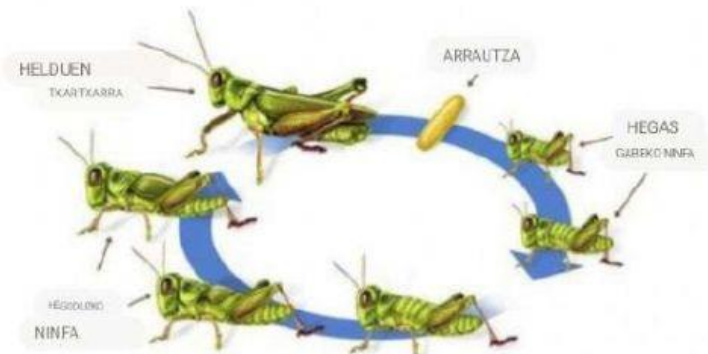


## ARTROPODOAK

### 1. Osatu:

Artropodoak \_\_\_\_\_ animaliak dira, \_\_\_\_\_ simetria dutenak. Bere gorputza \_\_\_\_\_ (e) n banatuta eta koraza zurrun batez babestuta, \_\_\_\_\_ (e) (a) n. Gainera, \_\_\_\_\_ gehigarriak dituztenak (hankak, barailak, antenak, etab.). Bi aurkez ditzakete begi-motak: \_\_\_\_\_ (lente txiki batzuk) eta \_\_\_\_\_ (milaka lenteak). Uretako artropodoek \_\_\_\_\_ arnasten dute, eta lehorrekoek, berriz, \_\_\_\_\_

### 2. Adierazi zein metamorfosi mota adierazten den kasu bakoitzean:


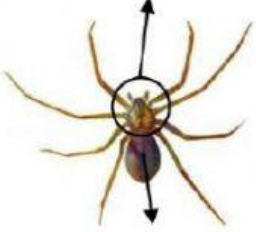
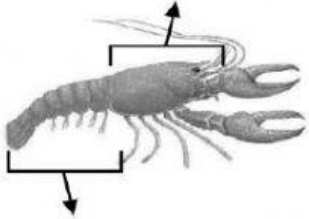



### ZUZENKO LAN-ORRIAK

Adierazi hurrengo Ornogabeen gorputzen atalak eta taula osotu:

3.

eta la tabla.

Taldea	Gorputzen atalak	Hanka kopurua	Antena kopurua	Ilego kopurua
				
				
				
				

4. Hurrengo Animaliak sailkatu:

