

1. ¿Cuánto tiempo ha pasado? Observa los relojes y completa.

7:15 - 8:30 _____ 9:10 - 11:15 _____ 15:45 - 17:55 _____

2. Un grupo de amigos salieron de excursión a las 10 y cuarto de la mañana y regresaron a las 5 y media de la tarde.

Reloj digital Mañana: _____ Reloj digital Tarde: _____

3. Expresa en la unidad que se indica.

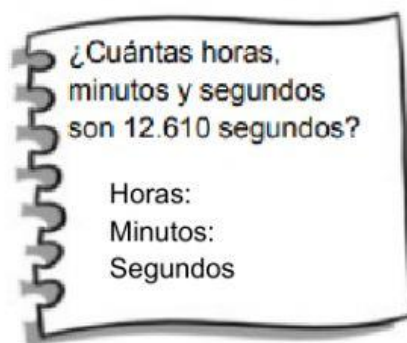
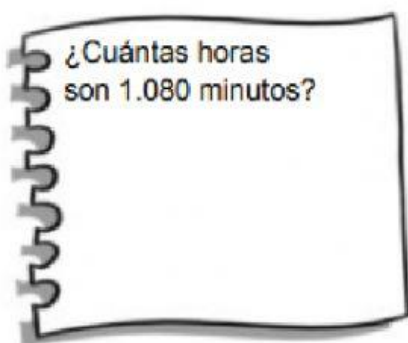

En minutos

- 2 h 14 min
- 3 horas y cuarto
- 1 hora y media

En segundos

- 3 min 9 s
- Un cuarto de hora y 7 s
- Media hora y 5 s

4. Calcula y contesta



5. Resuelve.

La película duró 228 minutos.

• ¿Cuántas horas y minutos duró?	
• Si la película comenzó a las 16:15, ¿a qué hora terminó?	