

## EL ECOSISTEMA Y SUS COMPONENTES

### 1. Selecciona la respuesta correcta:

- ♦ Un \_\_\_\_\_ está formado por un \_\_\_\_\_ y los \_\_\_\_\_ que habitan en él.
- ♦ El conjunto de \_\_\_\_\_ se le denomina flora.
- ♦ Al conjunto de \_\_\_\_\_ se le denomina fauna.

### 2. Fíjate en el ecosistema y arrastra cada ser vivo al lugar correspondiente.





Buitre	Lobo	Hierba
Oso	Arbusto	Champiñón
Cabra	Lombriz	Flor
Vaca	Árboles	

FAUNA:

FLORA:

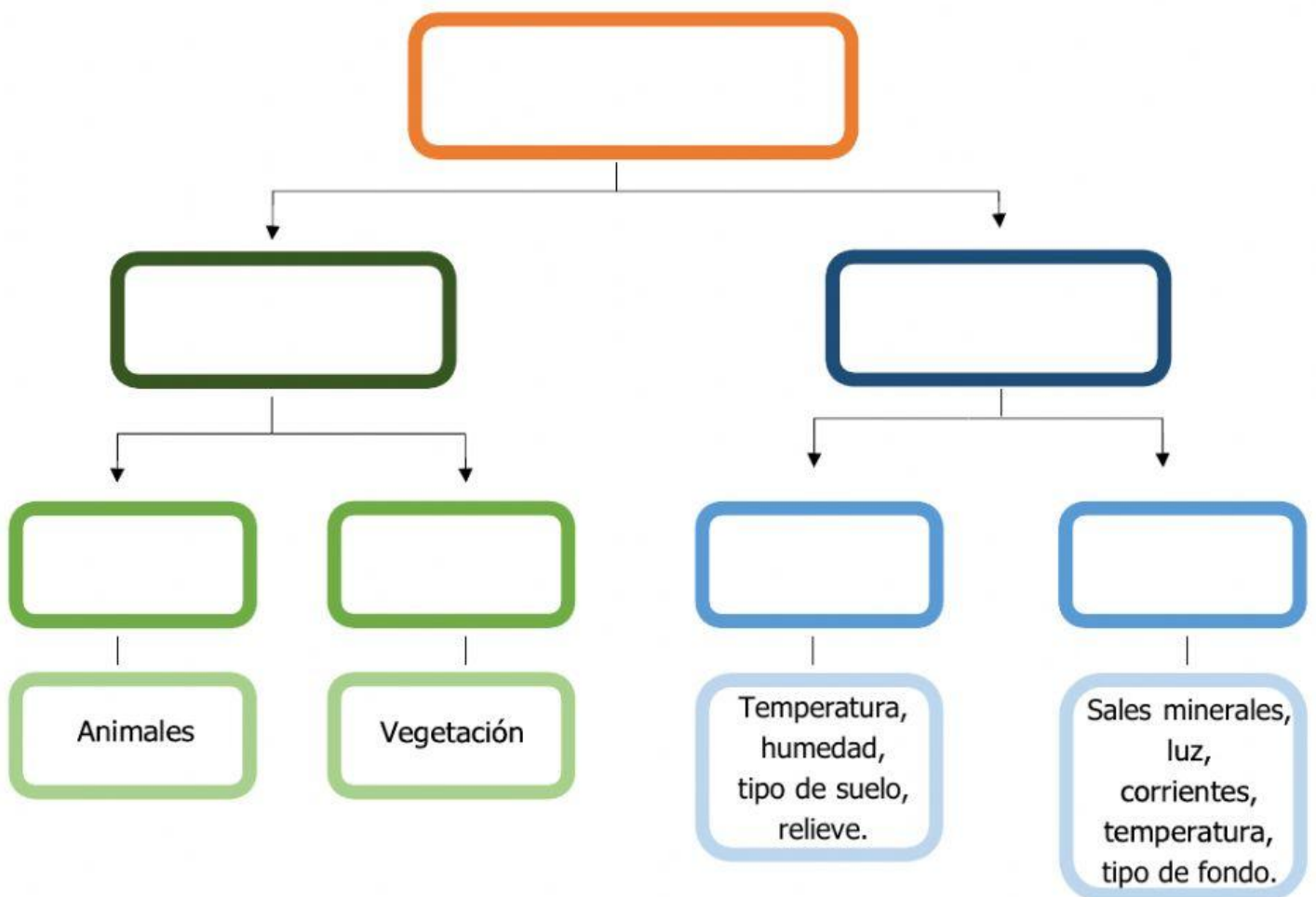
### 3. Escribe a qué corresponde cada imagen.



4. Une cada palabra con su definición.

Especie	Conjunto de las poblaciones de un ecosistema.
Comunidad	Conjunto de individuos de una especie que están en un ecosistema
Población	Seres vivos de la misma especie que son de aspecto similar y pueden reproducirse entre sí.

5. Pon a prueba tus conocimientos y completa el siguiente esquema.



ECOSISTEMAS

Fauna

MEDIO FÍSICO

SERES VIVOS

Medio Terrestre

Flora

Medio Acuático

6. Mira el siguiente dibujo de un ecosistema y encuentra 10 elementos en la sopa de letras. Pueden estar en forma horizontal o vertical.



## Ecosistemas

E	M	A	T	U	U	A	L	A	E
A	O	G	L	J	I	R	L	I	I
P	M	U	L	V	K	B	H	R	T
E	J	A	J	H	J	O	I	E	O
Z	Y	R	S	T	I	L	P	R	R
D	T	D	A	S	O	L	L	F	T
L	I	B	E	L	U	L	A	L	U
F	U	Ñ	Y	E	K	K	Y	O	G
E	A	G	U	A	D	M	U	R	A
F	G	H	J	H	I	E	R	B	A

7. Son seres vivos HAS CLICK en la respuesta correcta

VIENTO

SER VIVO

NO VIVO

ROCA

SER VIVO

NO VIVO

PASTO

SER VIVO

NO VIVO

LEÓN

SER VIVO

NO VIVO

SOL

SER VIVO

NO VIVO

PINGÜINO

SER VIVO

NO VIVO

ROSA

SER VIVO

NO VIVO