
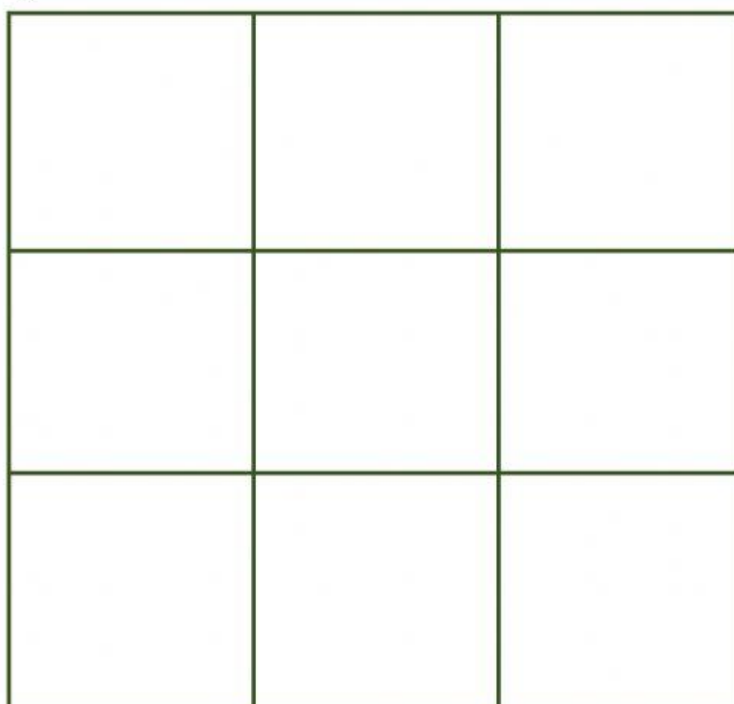




## MICROSOFT EXCEL

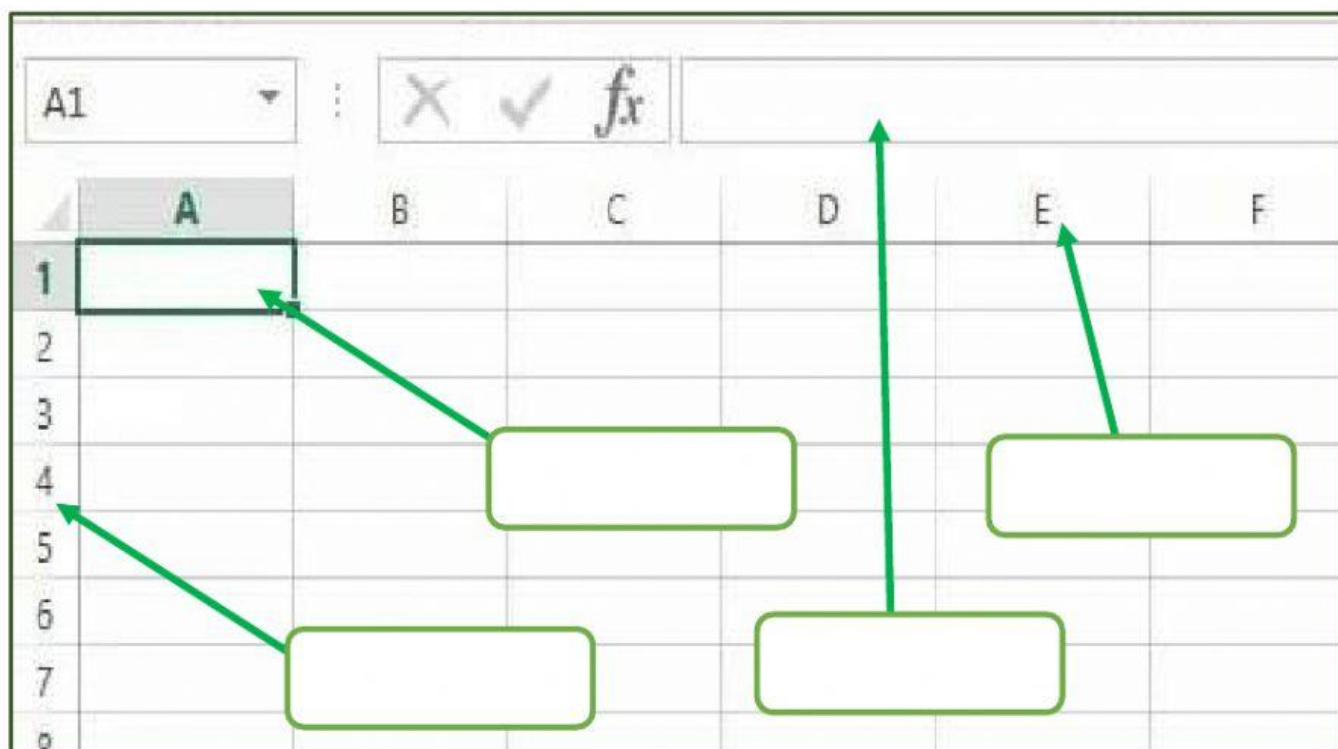
### 5to A y B

1. Arma el ícono de Excel y coloca las figuras en el lugar correcto.



2. Identifique cada sección de la hoja de Cálculo  
( Ubique el nombre que corresponda)

1. Fórmula    2. Columnas    3. Celdas    4. Filas



3. Escribe el Nombre de cada CELDA, observa el Ejemplo :

	A	B	C	D	E
1					
2					
3					
4					
5		B5			
6					
7					
8					
9					
10					

4. Marque la opción Correcta:

- Si ingreso la siguiente fórmula en una celda, el resultado será:

$$=2+6/2*3+1$$

c) 12

d) 8/7

a) 4

b) 13

5. Selecciona los DATOS y las FÓRMULAS del SUBTOTAL y TOTAL correctos para encontrar la solución al siguiente problema:

	A	B	C	D	E
4		En una cesta hay 52 fresas y en otra cesta hay 45.			
5		Quiero juntar todas, pero me he comido 11 fresas.			
6		¿Cuántas fresas hay?			
7					
8		<b>Datos</b>	<b>Cantidad Fresas</b>		
9		Cesta 1	<input type="text"/>		
10		Cesta 2	<input type="text"/>		
11		<b>SUBTOTAL:</b>		<b>97</b>	
12		<b>Menos Cantidad</b>	<input type="text"/>		
13		<b>TOTAL:</b>		<b>86</b>	

**SUBTOTAL:**

**TOTAL:**