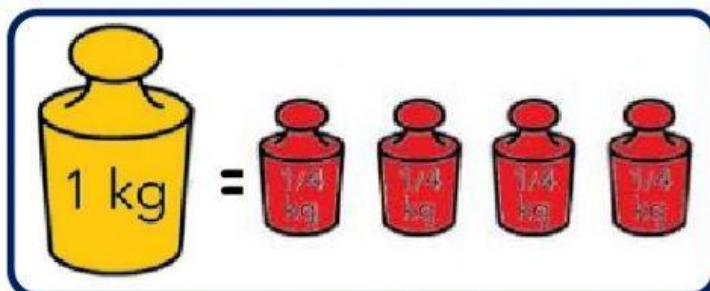
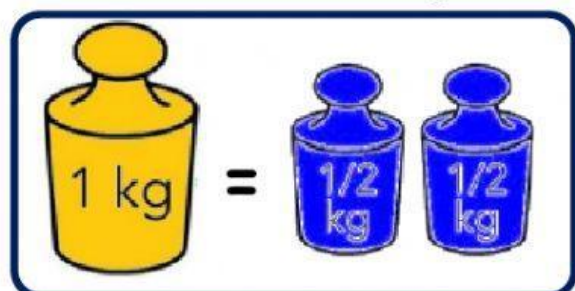




## UNIDADES DE MAGNITUD O MASA.

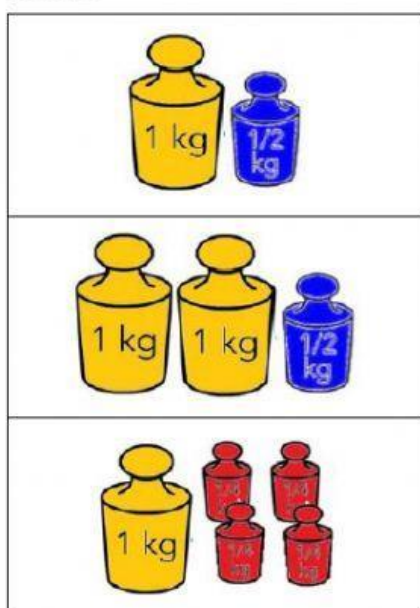
Fíjate en las equivalencias:



- ¿Cuánto crees que pesa cada uno? Elige la opción correcta.



- Une:



2 kilos

1 kilo y medio

2 kilos y medio

- Calcula cuánto pesan. Elige la respuesta.

