



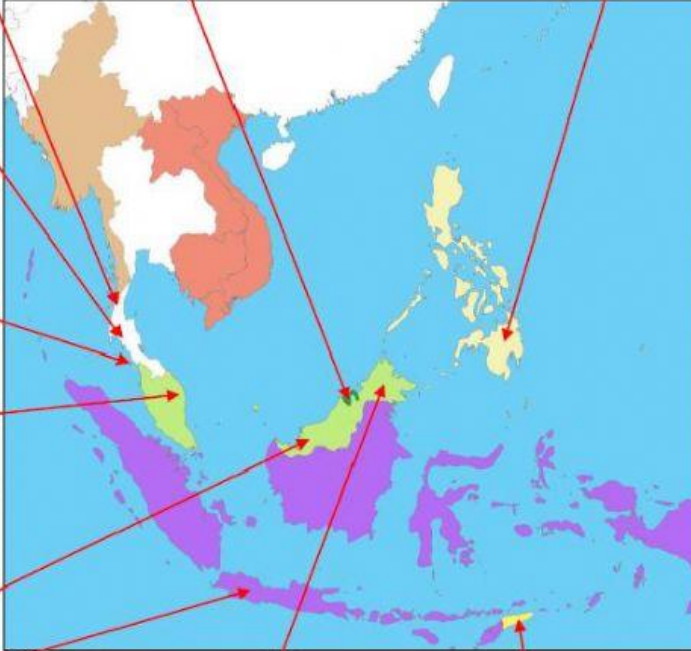






1. Namakan kuasa Barat berdasarkan bendera yang ditunjukkan dan lokasi sasaran tanah jajahan di dalam peta Alam Melayu di bawah ini.

<p>(a)  Nama negara: <u>Perancis</u> Sasaran tanah jajahan: <u>Indochina dan Segenting Kra</u></p>	<p>(j)  Nama negara: _____ Sasaran tanah jajahan: _____</p>	<p>(i)  Nama negara: _____ Sasaran tanah jajahan: _____</p>
<p>(b)  Nama negara: _____ Sasaran tanah jajahan: _____</p>		
<p>(c)  Nama negara: _____ Sasaran tanah jajahan: _____</p>		
<p>(d)  Nama negara: _____ Sasaran tanah jajahan: _____</p>		
<p>(e)  Nama keluarga: _____ Sasaran tanah jajahan: _____</p>		
<p>(f)  Nama negara: _____ Sasaran tanah jajahan: _____</p>		