

POŠTEVANKA ŠTEVILA 2



IME:

1. Naloga:
Povleci
prave ribe.

Sprejmeva
samo ribe z
večkratniki
števila 2.





2.) Vpiši
pravilen
rezultat.



$$7 \cdot 2 = \square$$

$$1 \cdot 2 = \square$$

$$4 \cdot 2 = \square$$

$$8 \cdot 2 = \square$$

$$\square \cdot 2 = 18$$

$$\square \cdot 2 = 4$$


$$\square \cdot 2 = 10$$

$$\square \cdot 2 = 20$$

$$3 \cdot \square = 6$$


$$6 \cdot \square = 12$$

$$1 \cdot \square = 2$$

$$9 \cdot \square = 18$$


3.) Razdeli vseh 16 piškotov 2 ribam spodaj.

Koliko piškotov bo dobila vsaka?



RAČUN: $16 : 2 =$

ODGOVOR: Vsaka riba bo dobila piškotov.



4.) Dopolni,
kar manjka.

POMAGAJ SI S POŠTEVANKO.

$12 : 2 = \underline{\quad}$, ker je
 $\underline{\quad} \times 2 = 12$

$$4 : 2 = \square$$

$$\square : 2 = 1$$

$$18 : \square = 9$$

$$8 : 2 = \square$$

$$\square : 2 = 3$$

$$20 : \square = 10$$

$$14 : 2 = \square$$

$$\square : 2 = 5$$

$$16 : \square = 8$$

5.) Reši besedilne naloge.



Za znak krat vstavi x.




A) Doma imaš 7 parov nogavic. Koliko nogavic imaš doma?

Račun:

Odgovor: Doma imam _____ nogavic.

Nejc bo 6 barvic pospravil v lončke, v vsakega po 2 barvici. Koliko lončkov bo potreboval?



_____, ker je _____

Odgovor: _____

