

LKPD SISTEM REPRODUKSI TUMBUHAN

NAMA :

KELAS :

Pilihlah cara perkembangbiakan yang tepat pada kotak masing masing tumbuhan



Berilah keterangan pada gambar berikut dengan menarik garis dari kotak yang ada dibawah ini

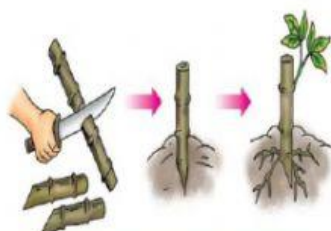

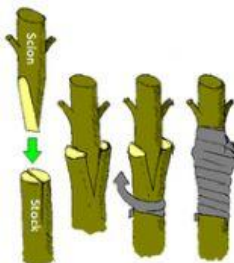
Cangkok

okulasi

menyambung


stek

merunduk



BAGIAN BAGIAN BUNGA

Silahkan lengkapi kotak kosong dengan menarik kotak dibagian bawah gambar



Kepala putik

Tangkai

Bakal Buah

Kelopak

Tangkai putik

Mahkota

Benang sari

Bakal biji