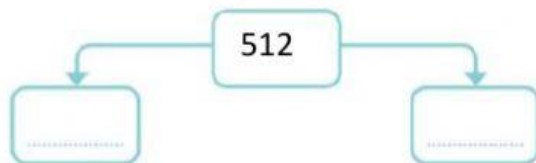


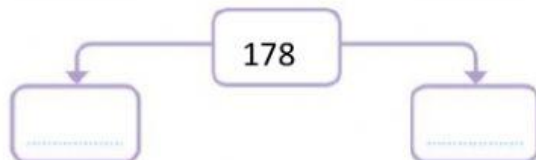
Observa el ejemplo. Completa las casillas y señala las cantidades redondeadas a las centenas.



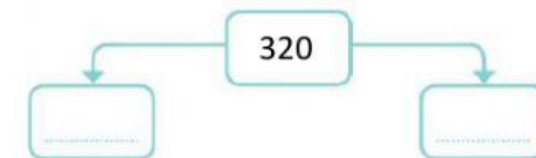
El 691, redondeado a la centena, es



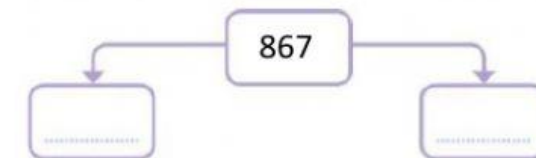
El, redondeado a la centena, es



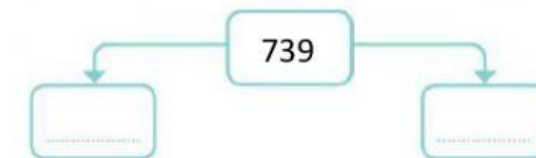
El, redondeado a la centena, es



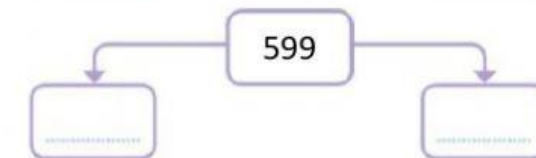
El, redondeado a la centena, es



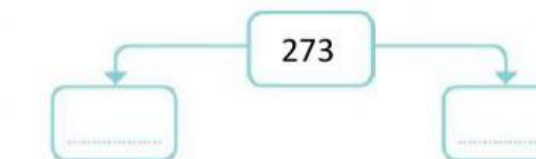
El, redondeado a la centena, es



El, redondeado a la centena, es



El, redondeado a la centena, es



El, redondeado a la centena, es

Seve