

Nome: _____ Turma: _____



Atividade de fixação (5º ano)

1 Que número está representado abaixo? Anote.

3ª CLASSE – MILHÕES			2ª CLASSE – MILHARES			1ª CLASSE – UNIDADES SIMPLES		
9ª ordem	8ª ordem	7ª ordem	6ª ordem	5ª ordem	4ª ordem	3ª ordem	2ª ordem	1ª ordem
C	D	U	C	D	U	C	D	U
III III	IIII	III III	II III	III III	III IIII	III	II	IIII IIII I

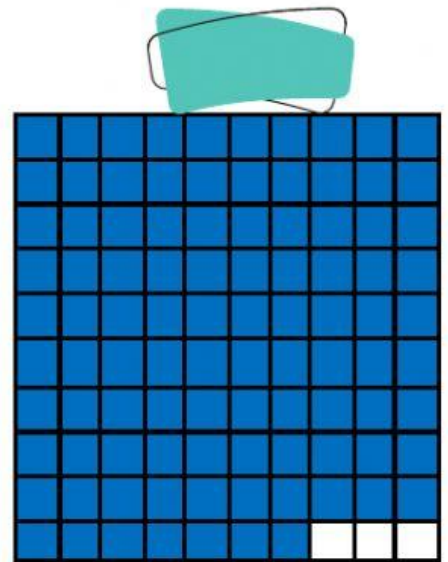

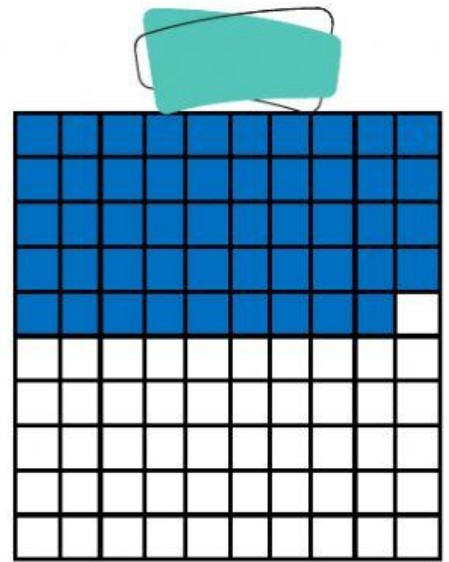

2 Como se lê o número do quadro acima?

3 Complete a tabela.

Número	Quantidade de classes	Quantidade de ordens
983.896		
1.586.365		
657.088.456		
125.987.562.968		



4 Qual é a percentagem que cada imagem representa?



5 Represente as percentagens a seguir na forma de fração.

15% →

90% →

34% →

63% →

99% →

28% →

6% →

10% →

1% →