

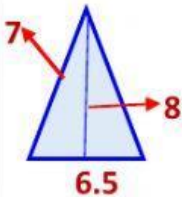


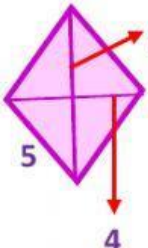
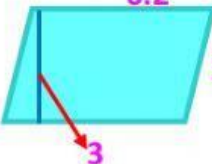
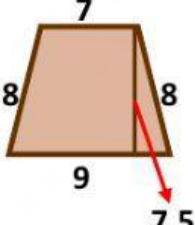
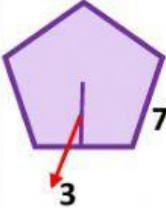
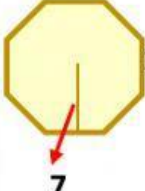


Cuida tu salud
ayuda si puedes,
y relájate

ESCUELA SECUNDARIA FEDERAL No.8
"LIC. JOSÉ TRINIDAD GUIDO"
MORELIA, MICHOACÁN
MATEMÁTICAS.

NOMBRE _____ **GRUPO** _____

Encuentra el perímetro, el área y escribe el nombre correctamente en cada una de las figuras. (no se te olviden poner los acentos)

 <p>NOMBRE <input type="text"/></p> <p>PERÍMETRO <input type="text"/> m</p> <p>AREA <input type="text"/> m²</p>	 <p>NOMBRE <input type="text"/></p> <p>PERÍMETRO <input type="text"/> m</p> <p>AREA <input type="text"/> m²</p>
 <p>NOMBRE <input type="text"/></p> <p>PERÍMETRO <input type="text"/> m</p> <p>AREA <input type="text"/> m²</p>	 <p>NOMBRE <input type="text"/></p> <p>PERÍMETRO <input type="text"/> m</p> <p>AREA <input type="text"/> m²</p>
 <p>NOMBRE <input type="text"/></p> <p>PERÍMETRO <input type="text"/> m</p> <p>AREA <input type="text"/> m²</p>	 <p>NOMBRE <input type="text"/></p> <p>PERÍMETRO <input type="text"/> m</p> <p>AREA <input type="text"/> m²</p>
 <p>NOMBRE <input type="text"/></p> <p>PERÍMETRO <input type="text"/> m</p> <p>AREA <input type="text"/> m²</p>	 <p>NOMBRE <input type="text"/></p> <p>PERÍMETRO <input type="text"/> m</p> <p>AREA <input type="text"/> m²</p>

MRFCh