

## Lembar Kerja Peserta Didik (LKPD) Digital Matematika Kelas VI (Enam)

Nama Peserta Didik :

Kelas :

No. Absen :

### Pengolahan Data (Median)

Bacalah materi pelajaran yang ada pada Presentasi PowerPoint berikut ini!

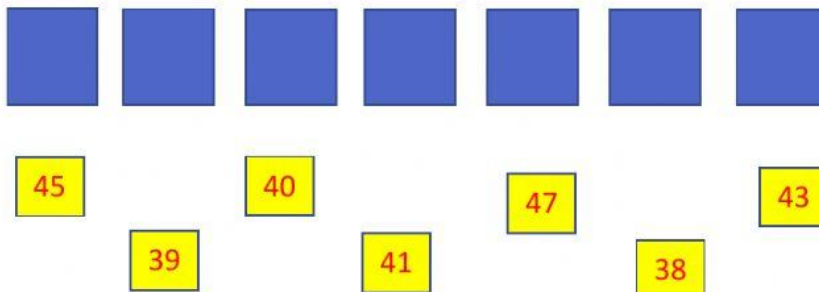


Jawablah pertanyaan-pertanyaan di bawah ini dengan jawaban tepat!

1. Data berat badan siswa (dalam kg) adalah sebagai berikut :

45 39 40 41 47 38 43

- a. Urutkan data dari yang terkecil!



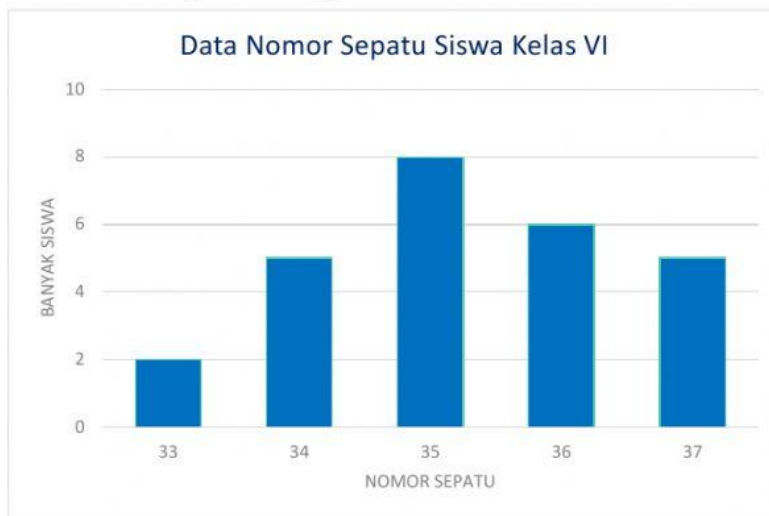
- b. Median dari data tersebut adalah .....

## 2. Perhatikan tabel berikut!

Nilai	Banyak Siswa
60	2
70	4
80	4
90	2
100	3

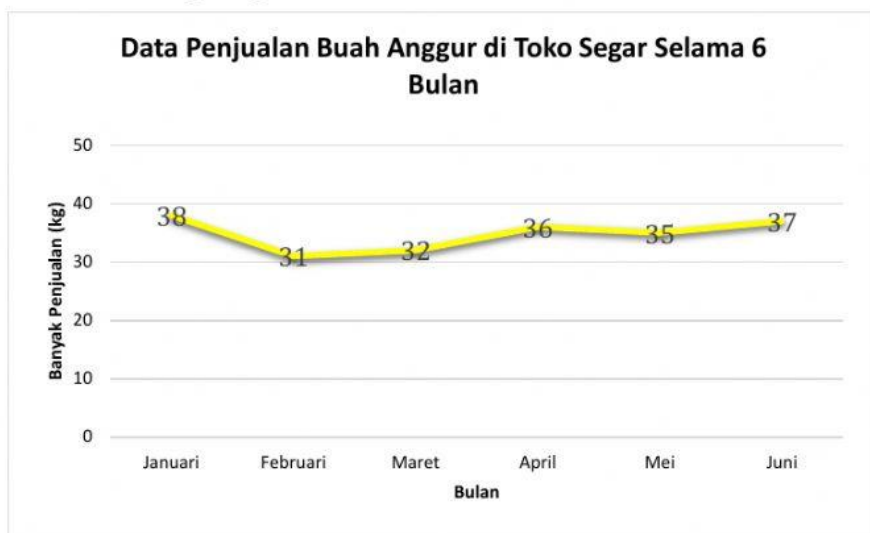
Median dari data tersebut adalah .....

## 3. Perhatikan diagram batang berikut!



Median dari data tersebut adalah .....

## 4. Perhatikan diagram garis berikut!



Median dari data tersebut adalah .....