

GUIA 1 DE MATEMATICAS GRADO PRIMERO

CANTIDADES

Para comparar dos cantidades debes utilizar una de las siguientes relaciones:

- Más que...



Hay **más** perros **que** gatos

- Tantos como...



Hay **tantos** carros **como** motos

- Menos que...




Paula tiene **menos** osos **que** muñecas



ACTIVIDAD

1. Observa las imágenes y compara las cantidades. Marca Si o No.



Hay más



que



Hay tantas



como



Hay menos



que



2. Observa y une con una línea.




Hay **más** bicicletas **que**
 Hay **tantos** carros **como**
 Hay **menos** motocicletas **que**
 Hay **más** balones **que**


Bicicletas
 Carros
 Balones
 Motocicletas

3. Dibuja los objetos indicados.

a. **Tantos** corazones como caras



b. Más balones **que** carros



c. Menos lápices **que** cuadernos

