

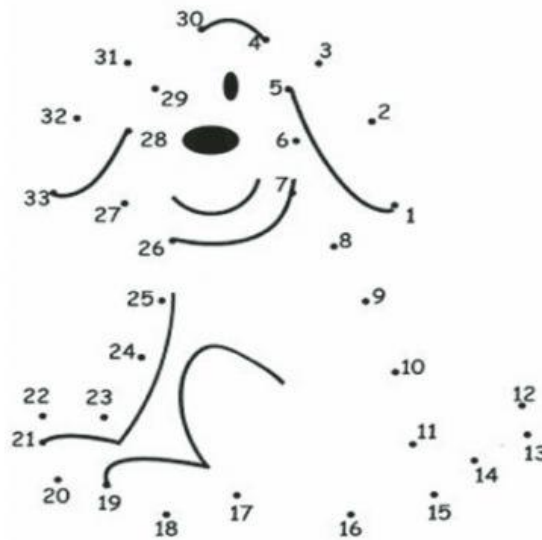
# MATEMÁTICA

Nombres y apellidos: .....

Curso: ..... Fecha: .....

En esta prueba encontrarás muchas consignas, léelas con mucha atención para realizar cada una.

1. Ana dibujó un perrito, pero por accidente borró una parte de él ¿Le ayudas a completar su dibujo uniendo los números con una línea?



2. Al ordenar los números, a este niño se le cayeron algunos de ellos, ¿Puedes ayudarlo a completar la secuencia (antes y después) de los números que faltan?

	19			5			18	
--	----	--	--	---	--	--	----	--

18		20		13	
----	--	----	--	----	--



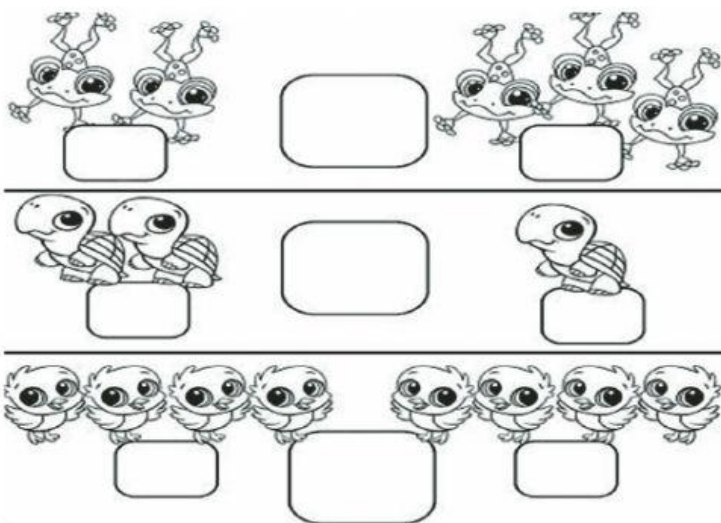
3. El maestro de Luis les enseñó a comparar números y cantidades y les dijo que para ello utilizarían los siguientes signos.

$>$  ,  $<$   $=$



Mayor Menor Igual



¿Puedes ayudarlo a escribir los signos, comparando las cantidades?

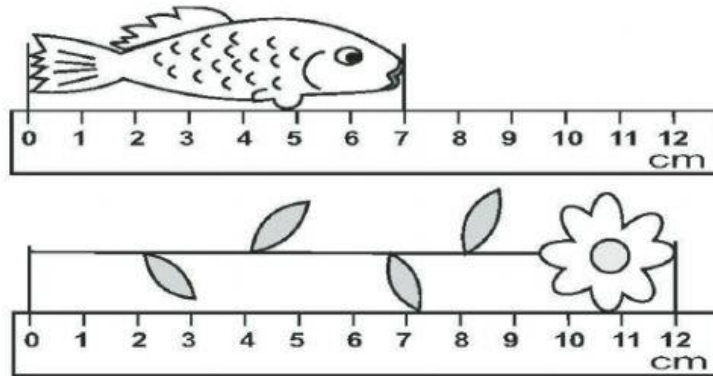


4. En un concurso de deletreo estos niños obtuvieron los siguientes puntos. ¿Quién obtuvo mayor puntaje?

	3 ● ● ●	7 ● ● ● ● ● ●	1 ●	=	<input type="text"/>
Jeremías					
	2 ● ●	2 ● ●	5 ● ● ● ● ●	=	<input type="text"/>
Luciana					

Respuesta: ..... obtuvo mayor puntaje.

5. En la clase de Matemática la maestra llevó un pescado y una flor para enseñarles cómo se miden los objetos. Para ello puso la regla de la siguiente manera:



¿Cuántos centímetros mide el pescado?

Resp: (     ) centímetros

¿Cuántos centímetros mide la flor?

Resp: (     ) centímetros

6. Ana, Juan y José decidieron jugar con dados, en dos jugadas que realizaron ellos obtuvieron los siguientes resultados:



Ana hizo 6 puntos en las dos jugadas



 $3 + 3 = 6$

¿Cuántos puntos lograron José y Juan?

Juan 
 $\underline{\quad} + \underline{\quad} = \underline{\quad}$

José 
 $\underline{\quad} + \underline{\quad} = \underline{\quad}$

¿Quién de ellos obtuvo los mayores puntajes?

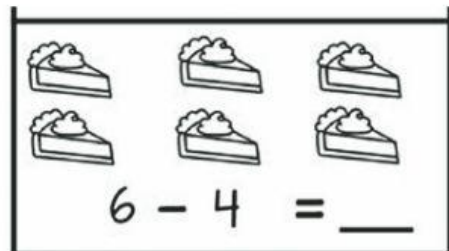
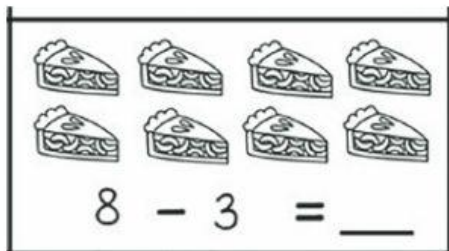
.....

7. Al cumpleaños de Nancy asistieron 8 niños y 6 niñas. Por la restricción, 3 niños y 4 niñas se fueron antes de partir la torta. ¿Cuántos niños recibieron la porción de torta?



NIÑOS

NIÑAS



..... niños

..... niñas

8. Observa con atención y escribe las partes de la computadora.

