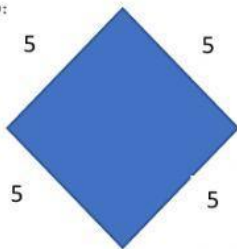


Perímetro


Llamamos **perímetro** de una figura geométrica plana a la **longitud de su contorno**.

Para calcular el perímetro hay que sumar lo que mide cada uno de sus lados.

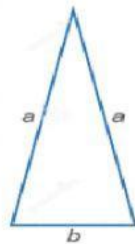
Ejemplo:



Debo sumar todos sus lados
 $5+5+5+5=20$



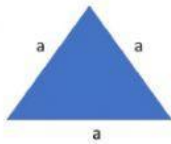
En álgebra es igual, sumo todos sus lados
 $x+x+x+x=4x$




En álgebra sumo todos los lados de la misma letra
 $a+a+b= 2a+b$

Actividad


Encuentra el perímetro de las siguientes figuras, recuerda que en álgebra solo debes sumar las letras iguales y colocarlas en orden alfabético.



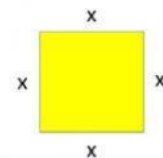
Perímetro=



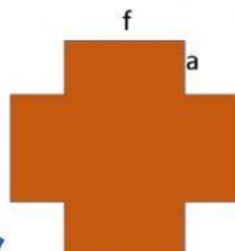
Perímetro=



Perímetro=



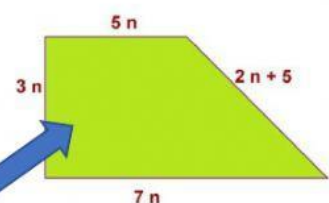
Perímetro=



Perímetro=

En esta figura hay 4 lados f y 8 lados a

Suma los términos semejantes y por separado los números solos pero une la expresión con un signo de +



Perímetro=