

Os números ordinais

Eduarda e seus amigos participaram de uma corrida de bicicletas.

Observe a ordem de chegada.



Preencha a tabela com a ordem de chegada de cada ciclista. Utilize os seguintes números ordinais: 1º (primeiro), 2º (segundo), 3º (terceiro), 4º (quarto) e 5º (quinto).

Nome do ciclista	Ordem de chegada
Eduarda	
Pedro	
Carla	
André	
Caio	

O número ordinal dá ideia de ordem, lugar ou posição.

Usamos ordinais para designar: capítulos de livros, artigos de lei, série de nomes de papas, andares de um prédio etc.

Observe a tabela:

6º	sexto	15º	décimo quinto	50º	quingentésimo
7º	sétimo	16º	décimo sexto	60º	sexagésimo
8º	oitavo	17º	décimo sétimo	61º	sexagésimo primeiro
9º	nono	18º	décimo oitavo	70º	setuagésimo
10º	décimo	19º	décimo nono	80º	octogésimo
11º	décimo primeiro	20º	vigésimo	90º	nonagésimo
12º	décimo segundo	25º	vigésimo quinto	92º	nonagésimo segundo
13º	décimo terceiro	30º	trigésimo	100º	centésimo
14º	décimo quarto	40º	quadragésimo		

ATIVIDADES

1. Escreva como se lê os números ordinais.






- 22^º vigésimo segundo _____
- 53^º _____
- 35^º _____
- 74^º _____
- 87^º _____
- 46^º _____
- 99^º _____
- 68^º _____

2. Identifique a ordem de colocação das pessoas representadas na fila.



Ilustrações: Lívia Cintra

Agora, complete a tabela.

				
_____	_____	_____	_____	_____

3. Use algarismos para representar os seguintes ordinais.

- a) vigésimo nono _____
- b) trigésimo primeiro _____
- c) quadragésimo oitavo _____
- d) quinquagésimo quinto _____
- e) sexagésimo sétimo _____
- f) setuagésimo segundo _____
- g) octogésimo quarto _____
- h) centésimo _____

4. Muitas crianças se inscreveram em um concurso de dança pelo programa de TV *Sonho Azul*. A classificação foi feita pelo maior número de pontos obtidos. Os cinco primeiros colocados foram:

Dupla	Pontuação
Roberta e Mário	1 080 pontos
Maria Elisa e José Carlos	1 548 pontos
Cláudio e Eduardo	1 399 pontos
Alessandra e Gabriel	1 486 pontos
Mariana e Pedro Paulo	1 247 pontos

Escreva os nomes:

a) da primeira e da quinta dupla colocadas.

b) seguindo a ordem de classificação e número de pontos.

5. Se em um prédio de apartamentos você estiver no sétimo andar e for subir mais quatro andares, em que andar você chegará?

Escreva com algarismos e com palavras o ordinal que indica esse andar.

6. Escreva o antecessor e o sucessor dos ordinais:

_____ 62^º _____

_____ 87^º _____

_____ 90^º _____