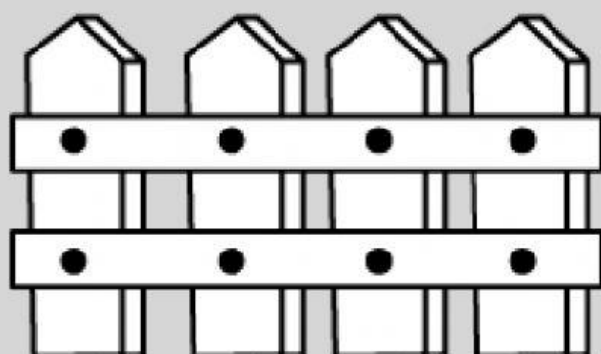


Nome: _____ Turma: _____



Atividades de Multiplicação

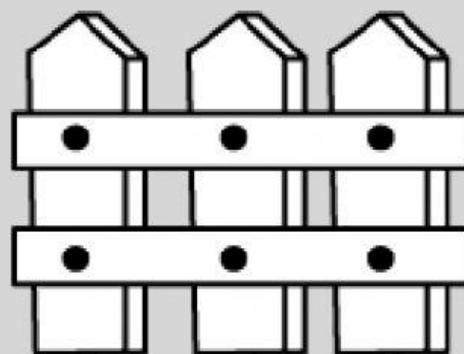
Observe a quantidade de pregos usados nas cercas:



$$2 + 2 + 2 + 2 = 8$$

ou

$$4 \times 2 = 8 \text{ (4 vezes o 2)}$$

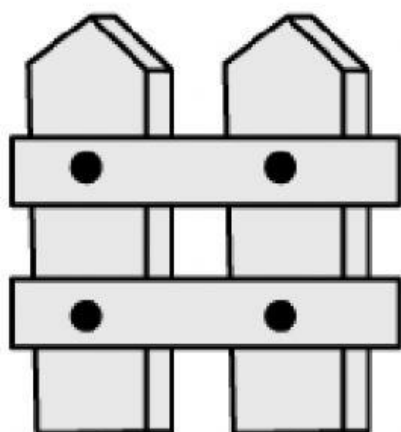


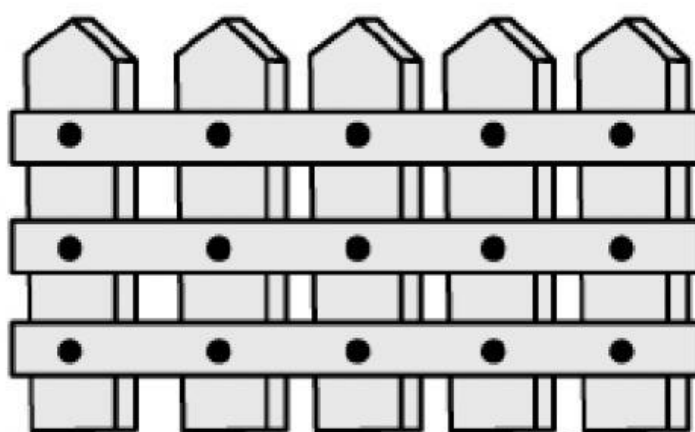
$$2 + 2 + 2 = 6$$

ou

$$3 \times 2 = 6 \text{ (3 vezes o 2)}$$

Agora escreva uma adição e uma multiplicação para indicar a quantidade de pregos usados nestas cercas:

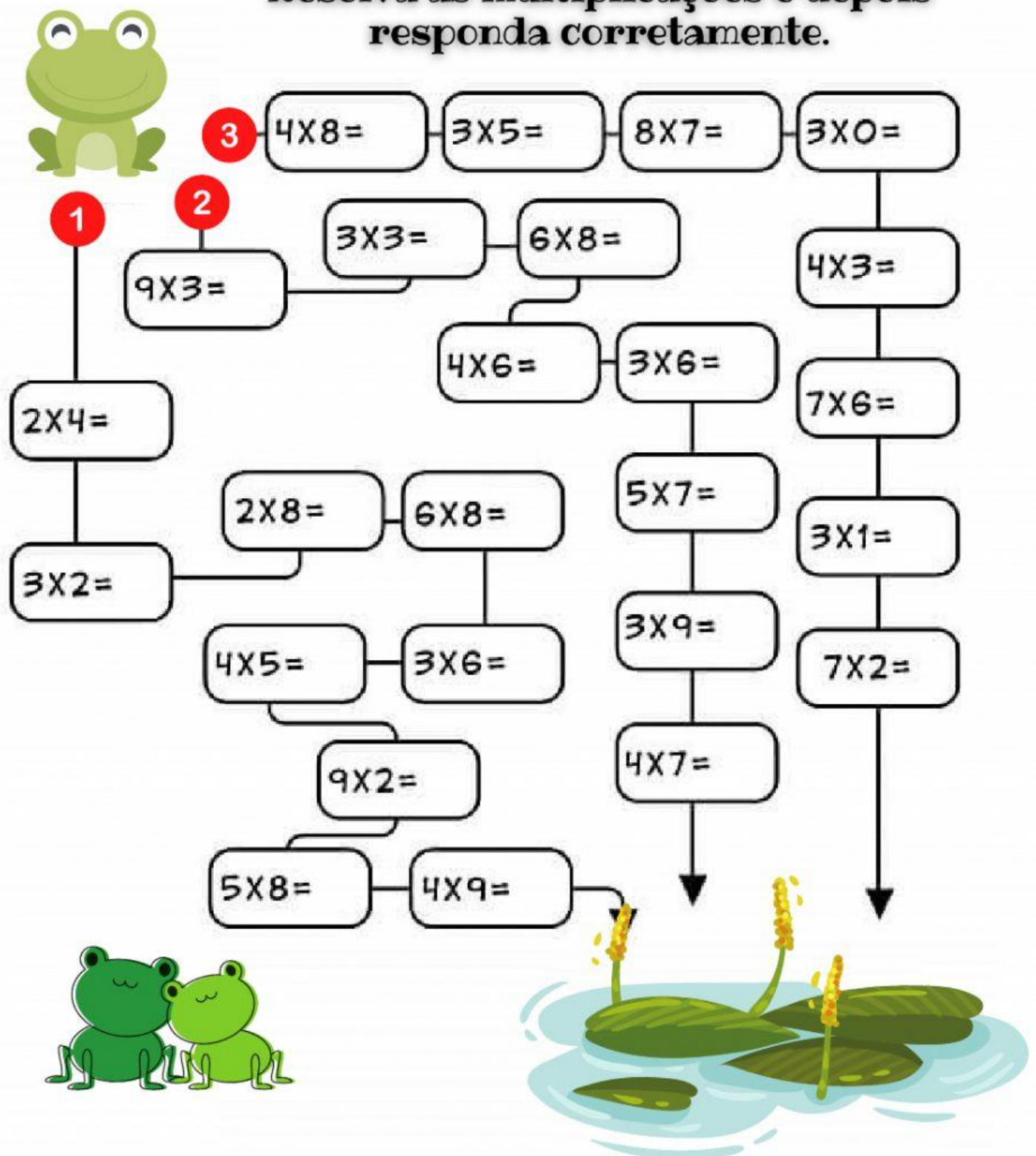




© SMARTKIDS

Vamos ajudar o sapo a chegar na lagoa?

Resolva as multiplicações e depois responda corretamente.



Em qual dos caminhos todos os resultados são números pares?

Caminho 1

Caminho 2

Caminho 3

Resolva as multiplicações com bastante atenção.

$3 \times 2 = \square$

$3 \times 9 = \square$

$4 \times 5 = \square$

$7 \times 8 = \square$

$5 \times 3 = \square$

$6 \times 3 = \square$

$7 \times 2 = \square$

$7 \times 4 = \square$

$2 \times 4 = \square$

$4 \times 6 = \square$



Complete as multiplicações com os números que estão faltando.



$9 \times \square = 27$

$\square \times 2 = 18$

$\square \times 7 = 28$

$5 \times \square = 50$

$5 \times \square = 20$

$\square \times 8 = 64$

$\square \times 4 = 12$

$6 \times \square = 30$

$6 \times \square = 36$

$\square \times 9 = 54$