







MEDIDAS DE LONGITUD


NOMBRE: CURSO:

1 -Escribe qué unidad de medida usarías:

	<input type="checkbox"/>	km cm m	<input type="checkbox"/>	
	<input type="checkbox"/>		<input type="checkbox"/>	
	<input type="checkbox"/>		<input type="checkbox"/>	

2 -¿Cuánto miden estas longitudes? Elige y señala con una X.


 53m
 53cm
 53km


 4m
 4cm
 4km

3 -Ordena estas medidas de mayor a menor.

62cm 62m 62km 6cm

> > >

4 -¿Qué medida está representada? largo/ancho/alto

