

SOCIALES. 5º de Primaria.
UNIDAD 1. AUTOEVALUACIÓN.

¡Pon a prueba tus conocimientos de la unidad 1!

- ❖ Resuelve las actividades una a una.
- ❖ No corras y consulta con el libro o tus esquemas.
- ❖ Cuando estés segur@ de la respuesta, la contestas.
- ❖ Sólo podrás hacer la ficha una vez.

1. Marca la unidad de medida que se utiliza para medir las distancias en el universo.

Centímetro

Metro

Año luz

Kilómetro

Decámetro

2. La Luna genera enormes cantidades de energía, que llega a nuestro planeta en forma de luz y calor.

Verdadero

Falso

3. Completa las siguientes oraciones.

Los planetas _____ son aquellos que se encuentran más cercanos al _____ y están
separados del resto por un cinturón de _____ .
Estos planetas son: Mercurio, Venus, la _____ y _____ .

4. Encuentra en la siguiente sopa de letras los planetas exteriores del sistema solar.

K	E	I	W	C	N	D	S	V	S
J	Ú	P	I	T	E	R	A	X	Q
O	J	S	Y	X	P	P	T	K	O
U	J	F	Z	E	T	C	U	I	R
J	R	J	X	R	U	O	R	C	G
Q	A	A	O	J	N	M	N	Z	N
O	Z	P	N	I	O	J	O	U	F
Z	W	J	G	O	Z	A	U	G	G
A	W	B	E	X	J	T	Q	Q	D
V	S	J	U	C	J	Y	C	O	U

5. Selecciona la opción correcta en cada caso. desplegable

- La tierra gira alrededor de su eje. Este movimiento se llama movimiento de .
Este movimiento origina la sucesión de
- La Tierra, además de girar sobre sí misma, también gira en torno al Sol. Este movimiento se
llama movimiento de . El tiempo que tarda la Tierra en completar este giro
origina y dura .

6. Completa el siguiente texto:

El agua cubre el 75% de la superficie de nuestro planeta. La mayor parte es agua y se
distribuye en los mares y . El resto es agua , y se encuentra en los ,
pantanos y lagos, pero también en el agua helada de los glaciares y en las aguas .
El agua de la Tierra constituye la parte del planeta que llamamos

7. Los paralelos son las circunferencias concéntricas paralelas al Ecuador.

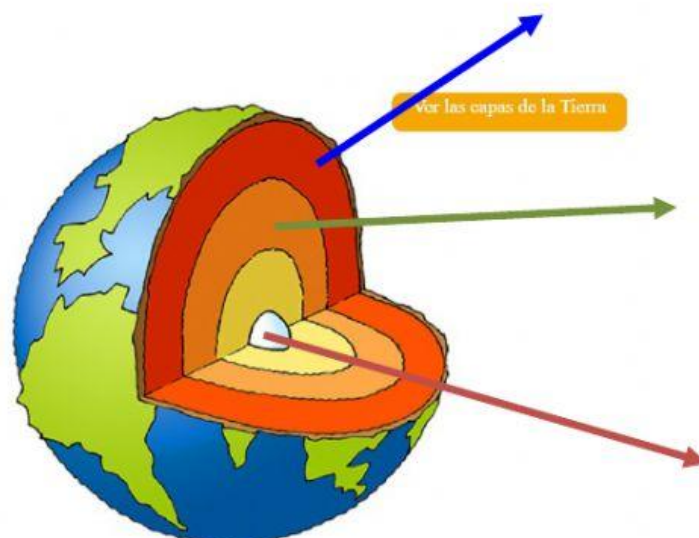
Verdadero

Falso

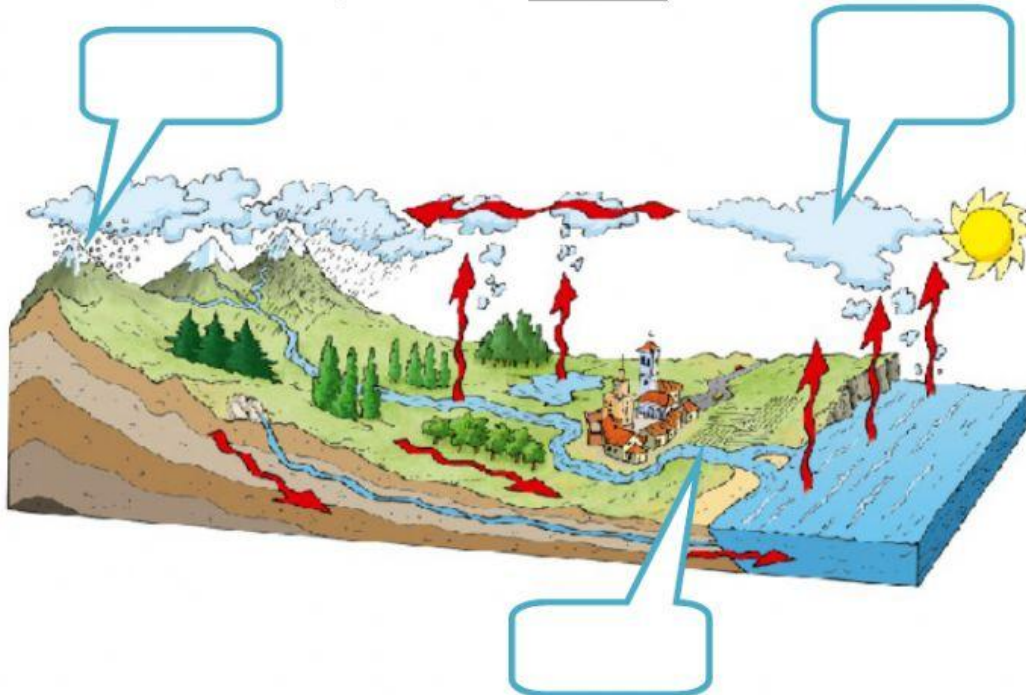
8. Asocia cada término con su definición.

Manto	Esfera interna de la geosfera.
Corteza	Capa intermedia de la geosfera.
Núcleo	Capa más externa de la geosfera.

9. Escribe los términos anteriores donde corresponda. Escribe en minúsculas.



10. Escribe los estados del agua. Escribe en minúsculas.



11. Escribe las capas de la tierra donde corresponda.

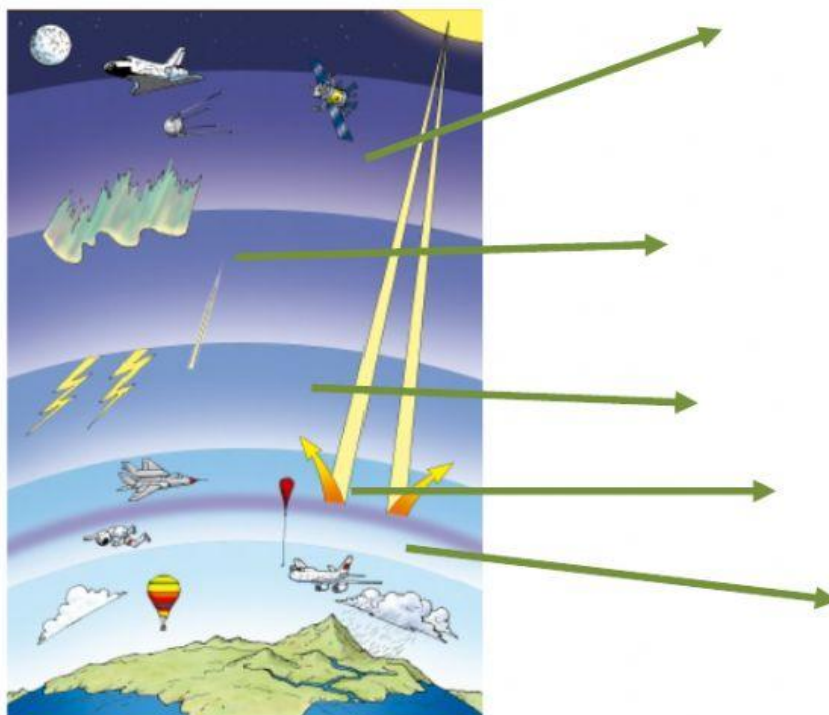
estratosfera

troposfera

exosfera

termosfera

mesosfera



Ahora... REPASA y... antes de enviármelo,
piensa.... ¿qué nota te pondrías?



MI NOTA sería: