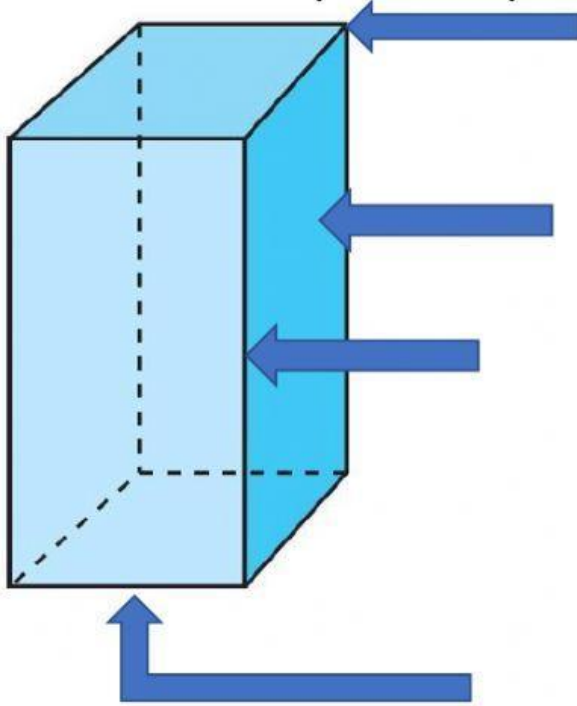


# PRISMAS



Infra. Kassandra

1.- Une cada parte del prisma con su nombre:



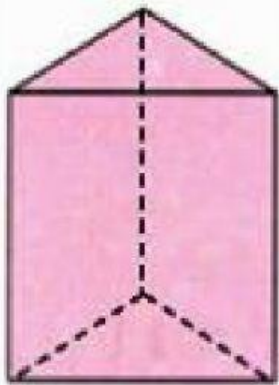
base

vértice

arista

cara

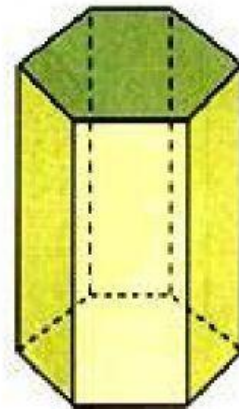
2.- Anota en los recuadros cuántas caras, vértices y aristas tiene cada uno de los siguientes prismas:



caras

vértices

aristas



caras

vértices

aristas