


# LKS KESEBANGUNAN BANGUN DATAR

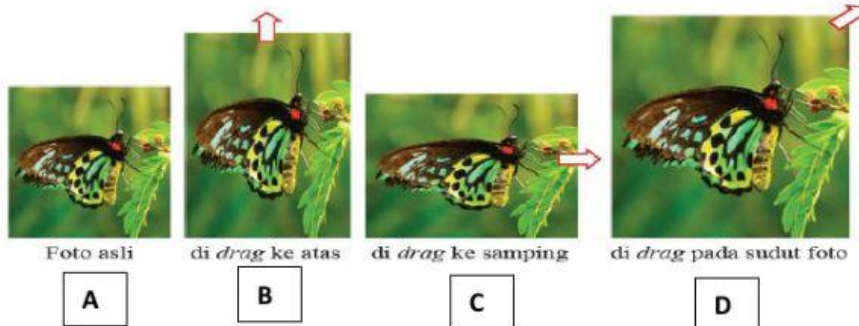
Nama :

Kelas :

SIMAK VIDEO PEMBELAJARAN BERIKUT KEMUDIAN JAWAB SOAL BERIKUT :

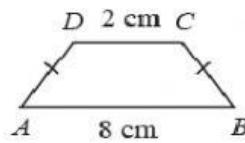
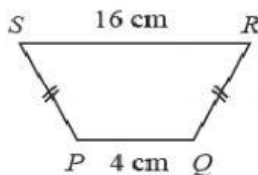


1. Perhatikan gambar berikut:



Yang sebangun dengan foto A adalah

2. Perhatikan gambar di bawah ini ;



Pada gambar disamping sisi-sisi yang bersesuaian adalah :

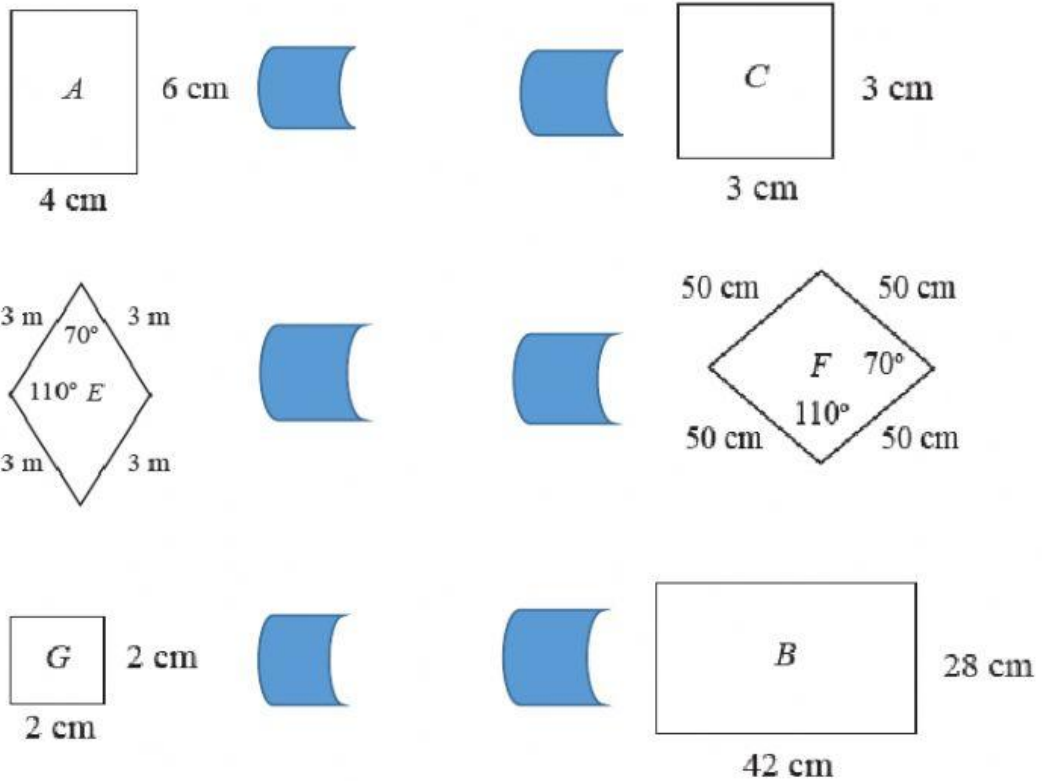
PQ bersesuaian dengan

SR bersesuaian dengan

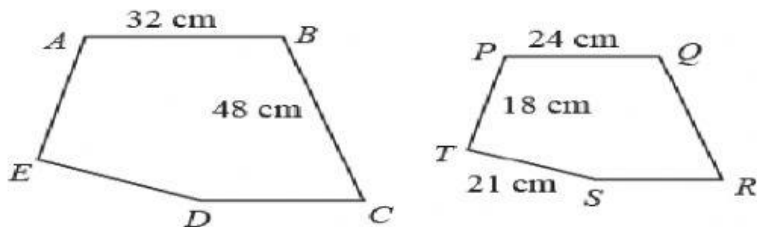
SP bersesuaian dengan

QR bersesuaian dengan

3. Pasangan bangun datar yang sebangun adalah :



4. Perhatikan gambar berikut :

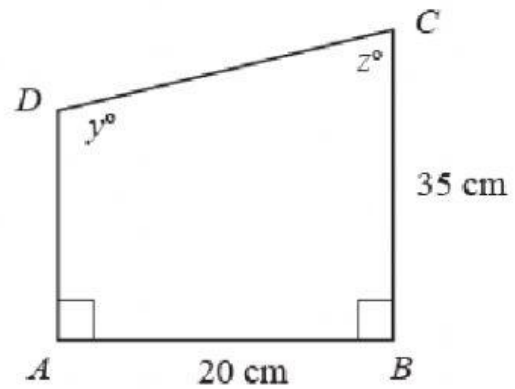
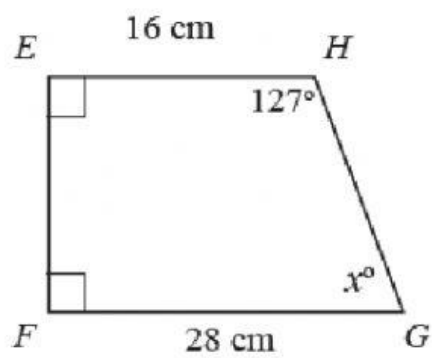


AB bersesuaian dengan  
BC bersesuaian dengan  
CD bersesuaian dengan  
DE bersesuaian dengan  
EA bersesuaian dengan

Dengan rumus perbandingan sisi yang bersesuaian hitung panjang dari sisi :

QR =  
AE =  
DE =

5. Perhatikan gambar berikut :



Dengan rumus perbandingan sisi yang  
beresuaian hitung panjang dari sisi :

$EF =$

$HG =$

$AD =$

$DC =$