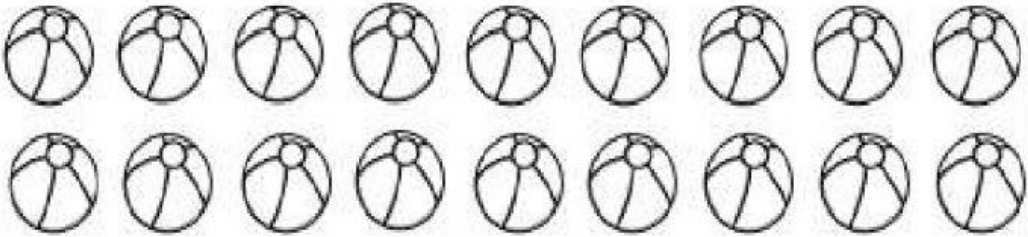
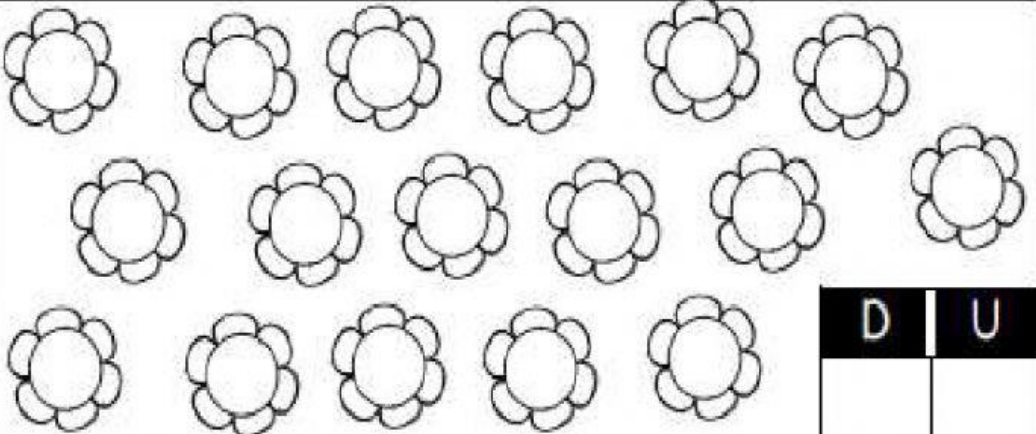



Hasta 50

Instrucciones. Escribe cuantas decenas y unidades hay en las siguientes colecciones.

										<table border="1"> <thead> <tr> <th>D</th> <th>U</th> </tr> </thead> <tbody> <tr> <td></td> <td></td> </tr> </tbody> </table>		D	U		
D	U														
										<table border="1"> <thead> <tr> <th>D</th> <th>U</th> </tr> </thead> <tbody> <tr> <td></td> <td></td> </tr> </tbody> </table>		D	U		
D	U														
										<table border="1"> <thead> <tr> <th>D</th> <th>U</th> </tr> </thead> <tbody> <tr> <td></td> <td></td> </tr> </tbody> </table>		D	U		
D	U														



CUENTA LAS MONEDAS QUE HA EN LA SIGUIENTE IMAGEN, SELECCIOA LAS QUE FALTAN PARA QUE EN TOTAL SEAN 50.

