


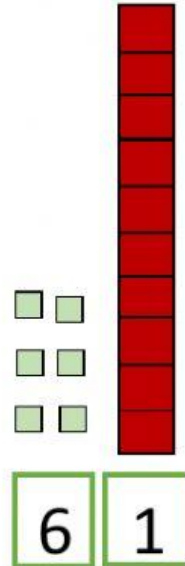
MATEMÁTICAS

2º A

1. Arrastra los números a la tabla de valores:



d	u



d	u

2. Resuelve los problemas:

Anita tiene 6 canicas y su mamá le regala 2 más.


¿Cuántas canicas tiene en total?



$$6 + 2 =$$

u
6
+2

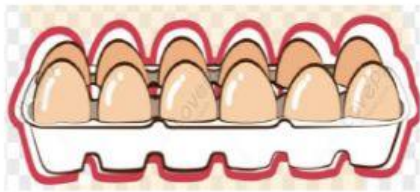
Darío tiene 8 espumillas y se come 4.
¿Cuántas espumillas le quedan?



$8 - 4 = \square$

u
8
-4

3. Cuenta los ingredientes de la espumilla:



2



12



1



3



7