

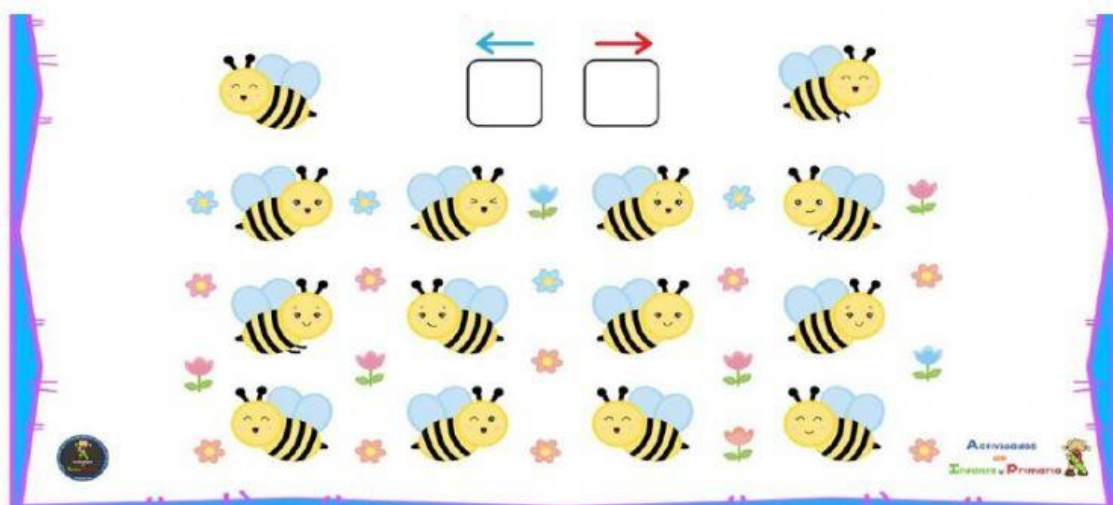
MONT AMERICAN SCHOOL OF TAMPICO
EVALUACIÓN PARCIAL CORRESPONDIENTE AL MES DE ENERO.
MATEMATICAS 2 do GRADO GRUPO "C"

NOMBRE DEL ALUMNO _____

I.- Une con una línea el nombre con la parte del cuerpo que le corresponde. 6 pts.



II.- Escribe en los recuadros cuantas abejas miran a la derecha y cuantas miran a la izquierda. 4 pts.



IV.- Contesta las siguientes preguntas. 3 pts.

- 1.- ¿Cómo se llaman todas las figuras que tienen 4 lados? _____
- 2.- ¿El triángulo es un cuadrilátero? _____
- 3.- ¿Cómo se llama la figura geométrica que tiene la forma del sol o de un reloj? _____

V.- Escribe en el cuadro el número de lados que tiene cada figura. 5 pts.



VI.- Une con una línea el nombre con la figura que le corresponde. 7 pts.

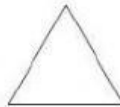
CUADRADO



TRIÁNGULO



RECTÁNGULO



ROMBO



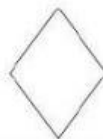
PENTÁGONO



CÍRCULO



ÓVALO



VII.- Resuelve las siguientes sumas y restas. 8 ptos.

$$\begin{array}{r} 358 \\ + 579 \\ \hline \end{array}$$

$$\begin{array}{r} 467 \\ + 265 \\ \hline \end{array}$$

$$\begin{array}{r} 609 \\ + 184 \\ \hline \end{array}$$

$$\begin{array}{r} 737 \\ + 167 \\ \hline \end{array}$$

$$\begin{array}{r} 906 \\ - 247 \\ \hline \end{array}$$

$$\begin{array}{r} 613 \\ - 245 \\ \hline \end{array}$$

$$\begin{array}{r} 410 \\ - 276 \\ \hline \end{array}$$

$$\begin{array}{r} 542 \\ - 197 \\ \hline \end{array}$$

VIII.- Resuelve. 2 ptos.



- ① Alan tenía algunos caramelos.
Luego le dio cinco a Tere.
Ahora Alan tiene cuatro caramelos.
¿Cuántos caramelos tenía Alan?
- _____

- ④ Cinthia tiene ocho chocolates.
Rubí tiene cinco chocolates.
¿Cuántos chocolates más tiene
Cinthia que Rubí?
- _____

Colorea el dibujo a tu gusto.

