

PRISMAS Y PIRÁMIDES

Observa el video y contesta.




1.- Escribe a qué tipo de poliedro se refiere cada descripción.

a) Tienen una sola base y sus caras laterales son triangulares.

b) Tienen dos bases poligonales iguales y sus caras laterales son rectangulares.

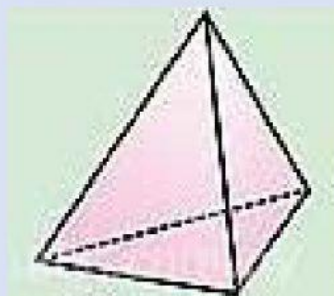
2.-Relaciona las dos columnas con una línea.

Tiene dos bases pentagonales y cinco caras laterales rectangulares.
Muestra dos bases triangulares y tres caras laterales rectangulares.
Posee dos bases cuadrangulares y cuatro caras laterales rectangulares.
Presenta dos bases hexagonales y seis caras laterales rectangulares.
Tiene dos bases octagonales y ocho caras laterales rectangulares.

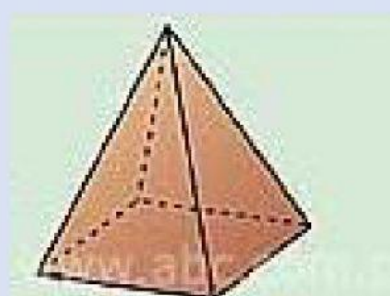


Prisma hexagonal
Prisma octagonal
Prisma triangular
Prisma pentagonal
Prisma cuadrangular

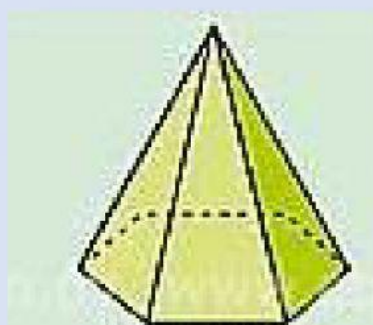
3.-Escribe el nombre de las pirámides.



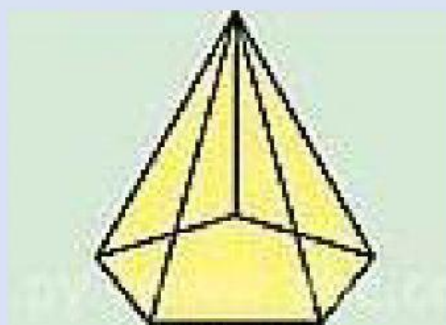
Pirámide



Pirámide



Pirámide



Pirámide

4.-Escribe las partes de un poliedro.

Partes de un poliedro

